

中期選抜学力検査

検査2

社 会

解答上の注意

- 1 「始め」の指示があるまで、問題を見てはいけません。
- 2 問題は、この冊子の中の1～4ページにあります。
- 3 答案用紙には、受付番号を記入しなさい。氏名を書いてはいけません。
- 4 答案用紙の答の欄に答えを記入しなさい。採点欄に記入してはいけません。
- 5 答えを記入するときは、それぞれの問題に示してある【答の番号】と、答案用紙の【答の番号】とが一致するように注意しなさい。
- 6 答えを記号で選ぶときは、答案用紙の答の欄の当てはまる記号を○で囲みなさい。答えを訂正するときは、もとの○をきれいに消すか、それに×をつけなさい。
- 7 答えを記述するときは、丁寧に書きなさい。
- 8 字数制限がある場合は、句読点や符号なども1字に数えなさい。
- 9 答えの書き方について、次の解答例を見て間違いのないようにしなさい。

解答例

- 1 火曜日の翌日は何曜日か、漢字1字で書け。
 ……………答の番号【1】
- 2 次の(ア)～(ウ)の数を値の小さいものから順に並べかえ、記号で書け。 ……………答の番号【2】
 (ア) 7 (イ) 5 (ウ) 3
- 3 次の問い(1)・(2)に答えよ。
 (1) 「京」の絵画数として最も適当なものを、次の(ア)～(ウ)から1つ選べ。 ……答の番号【3】
 (ア) 7画 (イ) 8画 (ウ) 9画
 (2) 次の(ア)～(オ)のうち、奇数をすべて選べ。
 ……………答の番号【4】
 (ア) 1 (イ) 2 (ウ) 3
 (エ) 4 (オ) 5

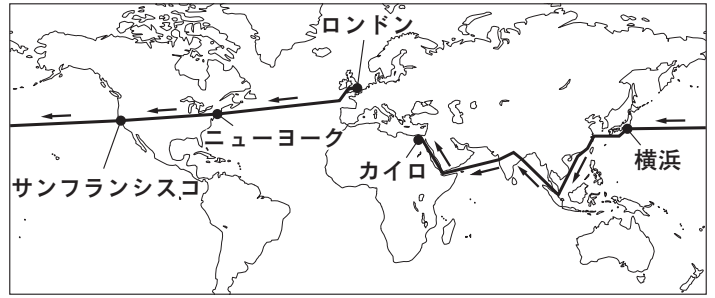
問題番号	答の番号	答の欄	採点欄
1	【1】	水 曜日	[1]
2	【2】	(ウ)→(イ)→(ア)	[2]
3	(1) 【3】	ア <input checked="" type="radio"/> イ <input type="radio"/> ウ	[3]
	(2) 【4】	<input checked="" type="radio"/> ア <input checked="" type="radio"/> イ <input checked="" type="radio"/> ウ <input type="radio"/> エ <input checked="" type="radio"/> オ	[4]

検査	受付番号	得点
2	1 2 3 4 5 6	

このページに問題は印刷されていません

1 右の資料Ⅰは、近代に旅行業を始めたイギリスの実業家トマス・クックが1872年から1873年にかけて旅行客と世界各地をめぐる時の、おおよそのルートと経由した主な都市を、世界地図の一部に示したものである。これを見て、次の問い(1)～(5)に答えよ。(10点)

資料Ⅰ



- (1) トマス・クックは、資料Ⅰ中で示したように、ロンドンを出発してニューヨークにわたった。こうした大陸間の移動が盛んになった背景の一つに、列強の積極的な海外進出があった。次の文章は、トマス・クックが旅行した1870年代頃における列強の海外進出とその影響について書かれたものの一部である。文章中の **A**・**B** に入るものの組み合わせとして最も適当なものを、下の(ア)～(カ)から1つ選べ。

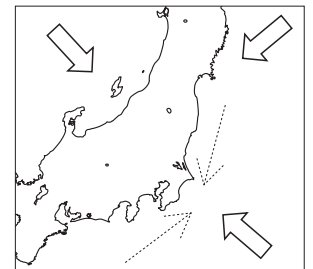
……………答の番号【1】

1870年代に資本主義が急速に発達してくると、列強が市場を求めて海外に植民地をつくる **A** 主義の動きが激しくなり始めた。列強がアジアにも進出する中で、日本も海外への進出を試み、朝鮮と日朝修好条規を結んだ。この条約では、**B** が領事裁判権を持つと定められた。

- (ア) A 社会 B 朝鮮のみ (イ) A 社会 B 日本のみ
 (ウ) A 社会 B 朝鮮と日本の双方 (エ) A 帝国 B 朝鮮のみ
 (オ) A 帝国 B 日本のみ (カ) A 帝国 B 朝鮮と日本の双方
- (2) トマス・クックは、アメリカ大陸を横断して資料Ⅰ中のサンフランシスコで船に乗り、太平洋を渡って日本に向かった。太平洋について述べた文として最も適当なものを、次の(ア)～(エ)から1つ選べ。また、トマス・クックが日本に向かったとき、日本では明治政府がさまざまな改革を進めていた。明治政府が行った、地券を発行して土地の所有者に現金で税を納めさせる改革を何というか、ひらがな6字で書け。……………答の番号【2】
- (ア) 大西洋より面積が小さい。 (イ) インダス川が流れ込む海洋である。
 (ウ) 日付変更線が通っている。 (エ) 面している国の一つにガーナがある。

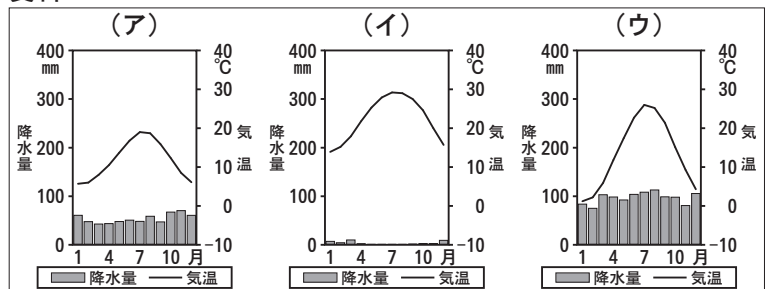
- (3) トマス・クックは資料Ⅰ中の横浜に、冬に到着した。右の資料Ⅱは、日本地図の一部に、現在の関東地方の冬の気候に影響を与えるもののうち、内陸部が乾燥する要因となる季節風の向きと、海沿いの地域が比較的暖くなる要因となる黒潮の向きを、それぞれ模式的に表そうとしているものである。答案用紙の図中の白い矢印(⇨)のうち、関東地方の内陸部が冬に乾燥する要因となる季節風の向きを表すものを黒く塗り(■⇨)、答案用紙の図中の点線の矢印(⇨)のうち、関東地方の海沿いの地域が冬に比較的暖くなる要因となる黒潮の向きを表すものを実線でなぞり(—⇨)、図を完成させよ。……………答の番号【3】

資料Ⅱ



- (4) トマス・クックはアジア各地をめぐる後、エジプトに到着し、資料Ⅰ中のカイロで旅行客と別れた。右の資料Ⅲ中の(ア)～(ウ)はそれぞれ、資料Ⅰ中で示したロンドン、ニューヨーク、カイロのいずれかの都市の、現在の雨温図である。資料Ⅲ中の(ア)～(ウ)の雨温図を、トマス・クックが旅行したルートに沿って、ロンドン、ニューヨーク、カイロの順に並べかえ、記号で書け。また、エジプトは、初めて国際連合の平和維持活動が行われた場所の一つである。国際連合の平和維持活動について書かれた右の文中の **A**・**B** に入るものの組み合わせとして最も適当なものを、次の(カ)～(ケ)から1つ選べ。

資料Ⅲ



気象庁ホームページ(1991～2020年統計)より作成

平和維持活動の略称は **A** であり、日本は **B** に、平和維持活動のために自衛隊を海外へ派遣するようになった。

- ……………答の番号【4】
- (カ) A NGO B 1980年代 (キ) A NGO B 1990年代
 (ク) A PKO B 1980年代 (ケ) A PKO B 1990年代
- (5) トマス・クックの事業を継承した株式会社は、1929年に資料Ⅰ中で示したいずれかの都市の株式市場で株価が大暴落したことをきっかけに始まった世界的な不況の影響を受けた。その都市はどこか、最も適当なものを、次のi群(ア)～(オ)から1つ選べ。また、株式会社や株主について述べた文として最も適当なものを、下のii群(カ)～(ケ)から1つ選べ。……………答の番号【5】
- i群 (ア) ロンドン (イ) ニューヨーク (ウ) サンフランシスコ (エ) 横浜 (オ) カイロ
 ii群 (カ) 株式会社は、公企業に分類される。
 (キ) 株式会社は、株式を購入した株主から配当を受け取る。
 (ク) 株主は、株主総会に出席して経営方針の決定に関わることができる。
 (ケ) 株主は、株式会社が倒産すると出資(投資)額を失い、さらに倒産に関わる費用も負担する。

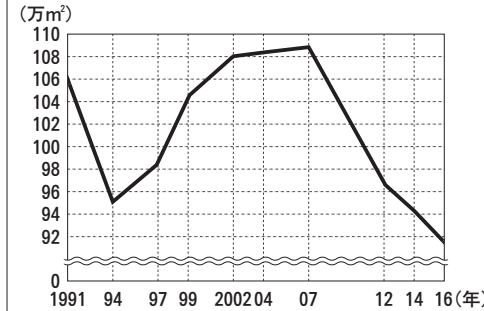
【裏へつづく】

2 右の資料Ⅰは、礼奈さんが、自分の住んでいる徳島県の課題について考察してまとめたものの一部である。これを見て、次の問い(1)～(5)に答えよ。(10点)

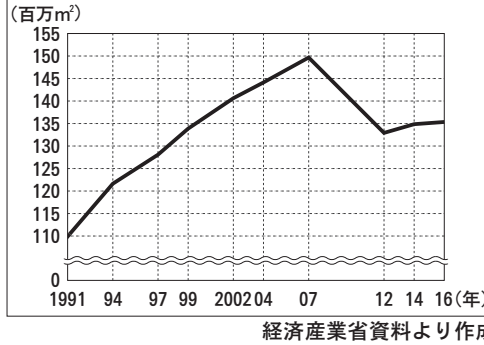
(1) 礼奈さんは、下線部①徳島県内における経済について調べる中で、小売業の売場面積に注目した。右の資料Ⅱは、1991年から2016年にかけての、徳島県と全国における小売業の売場面積の推移をそれぞれまとめたものである。資料Ⅱから読み取れることとして適当なものを、次の(ア)～(オ)からすべて選べ。……答の番号【6】

資料Ⅱ

徳島県における小売業の売場面積の推移



全国における小売業の売場面積の推移

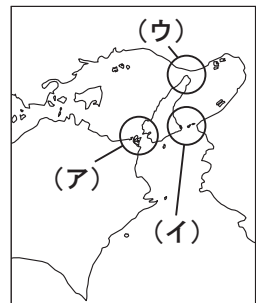


経済産業省資料より作成

- (ア) 徳島県における小売業の売場面積は、1991年から2007年にかけて、常に100万㎡以上である。
- (イ) 2004年の徳島県における小売業の売場面積と2014年の徳島県における小売業の売場面積の差は、10万㎡以上である。
- (ウ) 1994年の全国における小売業の売場面積は、1991年の全国における小売業の売場面積と比べて増加している。
- (エ) 徳島県における小売業の売場面積と全国における小売業の売場面積はいずれも、1997年、2002年、2007年のうち、2007年が最も大きい。
- (オ) 徳島県における小売業の売場面積と全国における小売業の売場面積はいずれも、2016年の方が2012年よりも小さい。

(2) 礼奈さんは、下線部②交通網の発達に興味を持ち、徳島県と周辺の都道府県を結ぶ交通網について調べた。右の資料Ⅲは、徳島県とその周辺の都道府県の一部を表した略地図である。資料Ⅲ中の○で囲まれた(ア)～(ウ)の地域のうち、現在、高速道路が通る橋がかかっている地域として適当なものをすべて選べ。また、資料Ⅲ中の○で囲まれた(ア)～(ウ)の地域のうち、徳島県と兵庫県の県境がある地域として最も適当なものを1つ選べ。……答の番号【7】

資料Ⅲ



(3) 礼奈さんは、下線部③医師の確保について、徳島県議会において議論されていたことを知り、地方議会の仕事に興味を持った。地方議会が行う仕事として最も適当なものを、次の(ア)～(エ)から1つ選べ。また、礼奈さんは、厚生労働省が医師確保対策を進めていることを知った。内閣のもとで、厚生労働省などの各省庁が分担して国の仕事をする権力は、三権分立の考え方のうち何権にあたるか、漢字2字で書け。……答の番号【8】

裁判官を任命する。

(4) 礼奈さんは、下線部④銅鐸の出土数が上位の5つの都道府県を調べ、右の資料Ⅳを作成した。また、次の文章は、礼奈さんが資料Ⅳを参考にして、銅鐸についてまとめたものの一部である。文章中の[A]・[B]に入るものの組み合わせとして最も適当なものを、下のi群(ア)～(エ)から1つ選べ。また、文章中の[C]に入る銅鐸の出土数として最も適当なものを、下のii群(カ)～(コ)から1つ選べ。……答の番号【9】

資料Ⅳ

	出土数 (単位：点)
兵庫県	56
鳥根県	54
徳島県	42
滋賀県	41
和歌山県	41


兵庫県教育委員会資料(平成15年度)より作成

銅鐸は、日本で[A]に、主に[B]として使われた青銅器の一つであるが、出土する地域には偏りが見られる。資料Ⅳ中の5つの県のうち、7地方区分における近畿地方の県だけで[C]点の銅鐸が出土している。

- i群 (ア) A 縄文時代 B 武器や工具 (イ) A 縄文時代 B 祭りの道具
- (ウ) A 弥生時代 B 武器や工具 (エ) A 弥生時代 B 祭りの道具
- ii群 (カ) 82 (キ) 97 (ク) 110 (ケ) 138 (コ) 192

(5) 礼奈さんは、下線部⑤渦潮が右の資料Ⅴのように、江戸時代に浮世絵で描かれていたことを知り、江戸時代の文化に興味を持った。江戸時代の文化について述べた文として適当なものを、次の(ア)～(オ)から2つ選べ。……答の番号【10】

資料Ⅴ



- (ア) 京都の北山に金閣が建てられた。
- (イ) 近松門左衛門が人形浄瑠璃の台本を書いた。
- (ウ) 太陽暦が採用され、1日が24時間、1週間が7日に定められた。
- (エ) 狩野永徳によって、華やかな色彩の絵がふすまや屏風に描かれた。
- (オ) 仏教などが伝わる前の日本人のものの考え方を明らかにしようとする国学が大成された。

3 右の資料 I は、正広さんが、フビライ・ハンの生涯における主なできごとについて調べて作成した略年表である。これを見て、次の問い(1)～(5)に答えよ。(10点)

資料 I

年	主なできごと
1215	①遊牧民の勢力を統一したチンギス・ハンの孫として生まれる
1254	チベットを征服する
1260	モンゴル帝国の皇帝として即位する 朝鮮半島の X を従える ②通貨の発行により経済統一を進める
1264	都を移す
1271	支配した中国北部地域に中国風の国名をつける
1272	都の名前を③大都と改称する
1274	日本への1度目の遠征を行う
1276	中国の Y をほろぼす
1281	日本への2度目の遠征を行う
1287	東南アジア方面への遠征を行う
1294	日本への3度目の遠征を計画している途中で生涯を終える

写真



(1) 資料 I 中の **X**・**Y** に入る語句の組み合わせとして最も適当なものを、次の(ア)～(カ)から1つ選べ。…答の番号【11】

- (ア) X 百済 Y 元 (イ) X 百済 Y 宋
 (ウ) X 百済 Y 明 (エ) X 高麗 Y 元
 (オ) X 高麗 Y 宋 (カ) X 高麗 Y 明

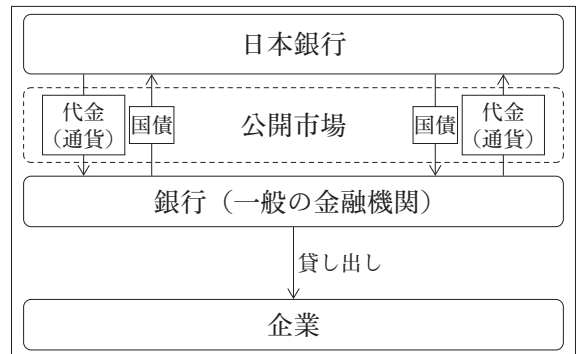
(2) 正広さんは、下線部①遊牧民について、現在もモンゴルで右の写真のようなゲルと呼ばれる住居に暮らして遊牧をしている人がいることを知った。遊牧について述べた文として最も適当なものを、次の i 群(ア)～(エ)から1つ選べ。また、正広さんは、戦乱の続いた春秋・戦国時代の末にも遊牧民が中国に進出していたことを知った。この頃に中国を統一し、遊牧民の侵入を防ぐために万里の長城を築いた人物として最も適当なものを、下の ii 群(カ)～(ケ)から1つ選べ。……………答の番号【12】

- i 群 (ア) 草や水を求めて移動しながら、家畜を飼育している。
 (イ) 牧草などの飼料を栽培し、乳牛の飼育を行っている。
 (ウ) 土地の養分のバランスを保つために、年ごとに異なる作物を育てている。
 (エ) 数年ごとに移動しながら、森林などを燃やした灰を肥料として利用し、作物を育てている。

- ii 群 (カ) 袁世凱 (キ) 孔子 (ク) 始皇帝 (ケ) 溥儀

(3) 正広さんは、下線部②通貨の発行が、現在の日本では日本銀行によって行われていることを知り、日本銀行について調べた。右の資料 II は、日本銀行が行う金融政策を、正広さんが模式的に表したものである。また、次の文章は、正広さんが資料 II を参考にして、不景気のときの金融政策についてまとめたものであり、文章中の に、下の(ア)～(シ)の語句から4つ選び、それらを並べかえてできた表現を入れると文章が完成する。 に適切な表現が入るように、(ア)～(シ)の語句から4つ選び、それらを並べかえ、記号で書け。なお、 に入る適切な表現は複数あるが、答案用紙には一通りだけ書くこと。……………答の番号【13】

資料 II



不景気のときは、日本銀行が 、企業にとってお金が借りやすい状況になる。このため、企業の生産活動が活発になり、景気の安定化がはかれると考えられる。

- (ア) 企業は (イ) 企業から (ウ) 公開市場で
 (エ) 公開市場に (オ) 支払いを受けた (カ) 貸し出しを受けた
 (キ) 国債を売ること (ク) 国債を買うこと (ケ) 保有する資金の量が増えて
 (コ) 保有する資金の量が減って (サ) 銀行(一般の金融機関)は (シ) 銀行(一般の金融機関)から

(4) 正広さんは、下線部③大都が現在の中国における首都の北京であり、北京では経済が発展してきたことを知った。右の文は、正広さんが、現在の中国における経済発展についてまとめたものの一部である。文中の に入るものとして最も適当なものを、次の i 群(ア)～(エ)から1つ選べ。また、正広さんは、日本において中国の都を手本に平城京がつけられたことを知った。平城京について述べた文として最も適当なものを、下の ii 群(カ)～(ケ)から1つ選べ。…答の番号【14】

- i 群 (ア) 沿岸部の都市 (イ) 沿岸部の農村 (ウ) 内陸部の都市 (エ) 内陸部の農村
 ii 群 (カ) 金剛峯寺が建てられた。 (キ) 日本で初めての本格的な都であった。
 (ク) 住人は約100万人であった。 (ケ) 市が設けられて各地の産物が売買された。

中国では経済が発展していく中で、沿岸部と内陸部の格差が拡大し、深圳のような へと出かせぎに行く人が多くなっていった。

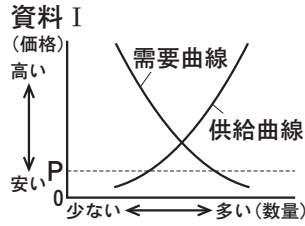
(5) 右の文章は、正広さんが、フビライ・ハンの生きていた時代についてまとめたものの一部である。資料 I を参考にして、文章中の **A** に入る数字を書け。また、文章中の **B**・**C** に入るものの組み合わせとして最も適当なものを、次の(ア)～(エ)から1つ選べ。……………答の番号【15】

フビライ・ハンが生きていたのは **A** 世紀にあたる。この世紀にモンゴル帝国はアジアから **B** まで領土を広げ、支配した。モンゴル帝国のもとでは、地域間の文化の交流が **C**。

- (ア) B 北アフリカ C 閉ざされた (イ) B 北アフリカ C 盛んに行われた
 (ウ) B 東ヨーロッパ C 閉ざされた (エ) B 東ヨーロッパ C 盛んに行われた

4 右の会話は、社会科の授業で「起業プランを発表しよう」というテーマのペアワークに取り組んでいる際に、健さんと剛さんが交わしたものの一部である。これを見て、次の問い(1)~(5)に答えよ。(10点)

(1) 健さんは、下線部①農作物の価格の変動について調べた。右の資料Iは、自由な競争が行われている市場において、ある農作物の価格と需要・供給の関係を模式的に表したものである。資料Iについて説明した次の文中の **A**・**B** に入るものの組み合わせとして最も適当なものを、下の(ア)~(エ)から1つ選べ。また、農作物の栽培について、例えば、夏が旬の農作物を、時期を早めて冬から春のうちに出荷できるように栽培することがある。このような、出荷時期を早める工夫をした栽培方法を何栽培というか、ひらがな4字で書け。 …答の番号【16】



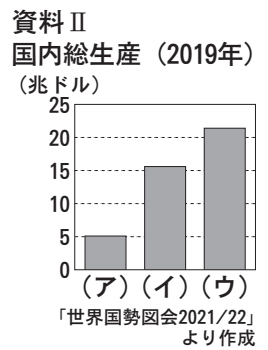
需要・供給の関係から、価格がPのとき、この農作物は希少性が高く、価格が **A** いき、市場における **B** が増えていくと考えられる。

- (ア) A 上がって B 供給量 (イ) A 上がって B 需要量
 (ウ) A 下がって B 供給量 (エ) A 下がって B 需要量

(2) 剛さんは、下線部②経済政策について、これまで日本でさまざまな経済政策が行われてきたことに興味を持った。次の(ア)~(エ)は、日本で行われた経済政策について述べた文である。(ア)~(エ)を古いものから順に並べかえ、記号で書け。 ……………答の番号【17】

- (ア) 御家人を救うために、幕府が永仁の徳政令を出した。
 (イ) 財政を立て直すために、田沼意次が銅や俵物の輸出を盛んにした。
 (ウ) 大名や豪商に海外への渡航を許す朱印状を幕府が与え、朱印船貿易が行われた。
 (エ) 商工業者に自由な活動を行わせるために、織田信長が安土において市場での税を免除した。

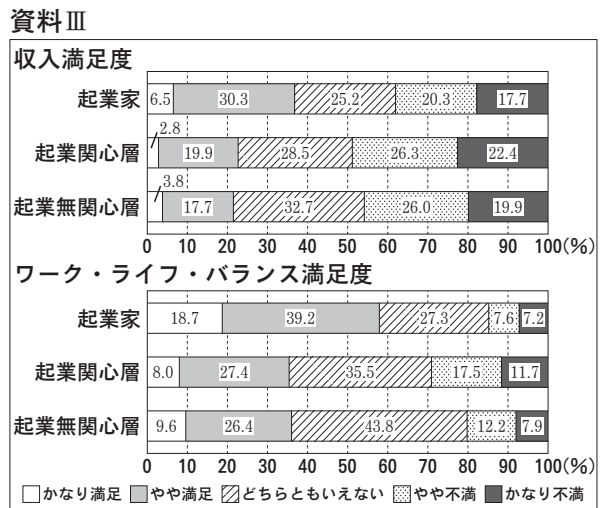
(3) 健さんは、下線部③税金のうち、所得税について調べた。現在の日本では、所得税は、所得が高い人ほど、所得に占める税金の割合(税率)が高くなる。このようなしくみで課税されることを何課税というか、ひらがな4字で書け。また、税金は貿易における輸入品にも課せられるが、EU(ヨーロッパ連合)は、加盟国間の貿易において輸入品に課せられる税金をなくし、経済活動を活発にしている。右の資料IIは、2019年におけるEU、日本、アメリカの国内総生産を示したものであり、(ア)~(ウ)はそれぞれ、EU、日本、アメリカのいずれかである。このうち、EUにあたるものを、(ア)~(ウ)から1つ選べ。ただし、EUの国内総生産は、2019年時点の、イギリスを除く加盟国の合計を示したものである。 ……………答の番号【18】



(4) 剛さんは、下線部④日本国憲法について調べた。日本国憲法について述べた文として適当なものを、次の(ア)~(オ)から2つ選べ。 ……………答の番号【19】

- (ア) 君主権の強いドイツの憲法をもとにつくられた。
 (イ) 裁判を受ける権利を含む社会権を保障している。
 (ウ) 国民は自由や権利を公共の福祉のために利用する責任があると定められている。
 (エ) 日本政府が作成した案が、議会での審議を経ずに日本国憲法として公布された。
 (オ) 法の下での平等を定めており、日本国憲法の制定にともない、民法が改正されて新たな家族制度ができた。

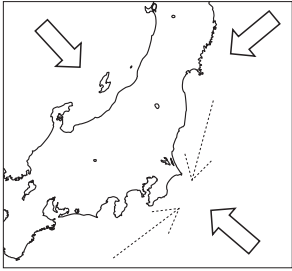
(5) 健さんと剛さんは、起業について調べ、右の資料IIIを作成した。資料IIIは、起業と起業意識に関する2022年度の調査結果をまとめたものであり、資料III中の「起業家」は起業した人を指し、「起業関心層」、「起業無関心層」は、起業していない人のうち、起業に関心がある人とない人をそれぞれ指している。資料IIIから読み取れることとして最も適当なものを、次の(ア)~(エ)から1つ選べ。 ……………答の番号【20】



(四捨五入の関係で、内訳の合計が100%にならない場合がある。)
 日本政策金融公庫「2022年度起業と起業意識に関する調査」より作成

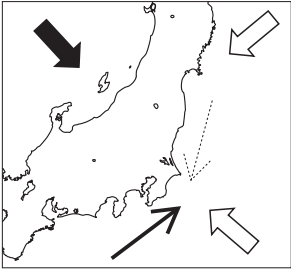
- (ア) 収入満足度において、「起業家」は、「やや不満」、「かなり不満」と回答した人の割合の合計が30%以下である。
 (イ) ワーク・ライフ・バランス満足度において、「起業関心層」は、「かなり満足」、「やや満足」と回答した人の割合の合計よりも、「やや不満」、「かなり不満」と回答した人の割合の合計の方が高い。
 (ウ) 「起業家」は、収入満足度よりもワーク・ライフ・バランス満足度の方が、「かなり満足」、「やや満足」と回答した人の割合の合計が高い。
 (エ) 収入満足度とワーク・ライフ・バランス満足度のいずれにおいても、「起業関心層」よりも「起業無関心層」の方が、「かなり満足」、「やや満足」と回答した人の割合の合計が高い。

検査 2 社会 答案用紙

問題番号	答の番号	答の欄	採点欄
1	(1)	【1】 ア イ ウ エ オ カ	【1】
	(2)	【2】 ア イ ウ エ 	【2】
	(3)	【3】 	【3】
	(4)	【4】 () → () → () カ キ ク ケ	【4】
	(5)	【5】 i群 ア イ ウ エ オ ii群 カ キ ク ケ	【5】
2	(1)	【6】 ア イ ウ エ オ	【6】
	(2)	【7】 <small>橋がかかっている地域</small> ア イ ウ <small>県境がある地域</small> ア イ ウ	【7】
	(3)	【8】 ア イ ウ エ 権	【8】
	(4)	【9】 i群 ア イ ウ エ ii群 カ キ ク ケ コ	【9】
	(5)	【10】 ア イ ウ エ オ	【10】
3	(1)	【11】 ア イ ウ エ オ カ	【11】
	(2)	【12】 i群 ア イ ウ エ ii群 カ キ ク ケ	【12】
	(3)	【13】 () → () → () → ()	【13】
	(4)	【14】 i群 ア イ ウ エ ii群 カ キ ク ケ	【14】
	(5)	【15】 ア イ ウ エ	【15】
4	(1)	【16】 ア イ ウ エ 栽培	【16】
	(2)	【17】 () → () → () → ()	【17】
	(3)	【18】 課税 ア イ ウ	【18】
	(4)	【19】 ア イ ウ エ オ	【19】
	(5)	【20】 ア イ ウ エ	【20】

検査	受付番号		得点
2			

検査 2 社会 正答表

問題番号	答の番号	答の欄		備考欄		
					配点	
1	(1)	【1】	㊦		【1】	2
	(2)	【2】	㊵	ちそかいせい	【2】	2 (各1)
	(3)	【3】			【3】	完全解答 2
	(4)	【4】	(ア)→(ウ)→(イ)	㊧	【4】	ア→ウ→イは 完全解答 2 (各1)
	(5)	【5】	i群 ㊩	ii群 ㊧	【5】	2 (各1)
2	(1)	【6】	㊩ ㊵ ㊧	【6】	完全解答 2	
	(2)	【7】	橋がかかっている地域 ㊦ ㊵ 県境がある地域 ㊦	【7】	ア・ウは 完全解答 2 (各1)	
	(3)	【8】	㊩	行政権	【8】	2 (各1)
	(4)	【9】	i群 ㊧	ii群 ㊧	【9】	2 (各1)
	(5)	【10】	㊩	㊦	【10】	完全解答 2
3	(1)	【11】	㊦		【11】	2
	(2)	【12】	i群 ㊦	ii群 ㊧	【12】	2 (各1)
	(3)	【13】	(例) (シ)→(ク)→(サ)→(ケ)		【13】	完全解答, ウ→ク→サ→ケ, ク→オ→サ→ケも可 2
	(4)	【14】	i群 ㊦	ii群 ㊧	【14】	2 (各1)
	(5)	【15】	13	㊧	【15】	2 (各1)
4	(1)	【16】	㊦	そくせい 栽培	【16】	2 (各1)
	(2)	【17】	(ア)→(エ)→(ウ)→(イ)		【17】	完全解答 2
	(3)	【18】	るいしん 課税	㊩	【18】	2 (各1)
	(4)	【19】	㊵	㊦	【19】	完全解答 2
	(5)	【20】	㊵		【20】	2