

中期選抜学力検査

検査2

社 会

解答上の注意

- 「始め」の指示があるまで、問題を見てはいけません。
- 問題は、この冊子の中の1～5ページにあります。
- 答案用紙には、受付番号を記入しなさい。氏名を書いてはいけません。
- 答案用紙の答の欄に答えを記入しなさい。採点欄に記入してはいけません。
- 答えを記入するときは、それぞれの問題に示してある【答の番号】と、答案用紙の【答の番号】とが一致するように注意しなさい。
- 答えを記号で選ぶときは、答案用紙の答の欄の当てはまる記号を○で囲みなさい。答えを訂正するときは、もとの○をきれいに消すか、それに×をつけなさい。
- 答えを記述するときは、丁寧に書きなさい。
- 字数制限がある場合は、句読点や符号なども1字に数えなさい。
- 答えの書き方について、次の解答例を見て間違いのないようにしなさい。

解答例

- 火曜日の翌日は何曜日か、漢字1字で書け。
……………答の番号【1】
- 次の(ア)～(ウ)の数を値の小さいものから順に並べかえ、記号で書け。 ……答の番号【2】
(ア) 7 (イ) 5 (ウ) 3
- 次の問い(1)・(2)に答えよ。
(1) 「京」の総画数として最も適当なものを、次の(ア)～(ウ)から1つ選べ。 ……答の番号【3】
(ア) 7画 (イ) 8画 (ウ) 9画
(2) 次の(ア)～(オ)のうち、奇数をすべて選べ。
……………答の番号【4】
(ア) 1 (イ) 2 (ウ) 3
(エ) 4 (オ) 5

問題番号	答の番号	答の欄	採点欄
1	【1】	水 曜日	[1]
2	【2】	(ウ)→(イ)→(ア)	[2]
3	(1) 【3】	ア <input checked="" type="radio"/> イ ウ	[3]
	(2) 【4】	<input checked="" type="radio"/> ア <input checked="" type="radio"/> イ <input checked="" type="radio"/> ウ エ <input checked="" type="radio"/> オ	[4]

検査	受付番号	得点
2	1 2 3 4 5 6	

このページに問題は印刷されていません

1 右の資料 I は、アジア州のうち、2022年の

温室効果ガス排出量が上位3位までの国の、経済発展の背景について、誠さんが調べてまとめたものの一部である。これを見て、次の問い(1)~(5)に答えよ。(10点)

資料 I

順位	国名	経済発展の背景
1位	中国	①1970年代に、経済政策の大きな転換が始まり、工業化が進んだ。しだいに、多くの工業製品で世界最大の生産国となり、現在では「世界の工場」と呼ばれている。
2位	②インド	1990年代に、外国企業の受け入れを活発に行い、工業生産が急速に成長した。近年は、特に、欧米などのICT(情報通信技術)関連企業が進出している。
3位	日本	1960年代に、③自動車の大量生産の技術が確立された。1980年代以降は、日本企業による自動車の海外生産が拡大し、現在、④インドネシアなどの東南アジアにも多くの企業が進出している。

(注：温室効果ガス排出量の順位は、国際エネルギー機関のホームページをもとにつけている。)

(1) 誠さんは、下線部①1970年代の中国について調べた。1972年に中国は日本と国交を正常化した。このときの日本の内閣総理大臣として最も適当なものを、次のi群(ア)~(エ)から1つ選べ。また、誠さんは、1970年代の国際社会の動向についても調べ、石油危機をきっかけにして、各国で、省エネルギー化や再生可能エネルギーの研究が進められたことを知った。下のii群(カ)~(ケ)のうち、再生可能エネルギーにあたるものとして適当なものを2つ選べ。

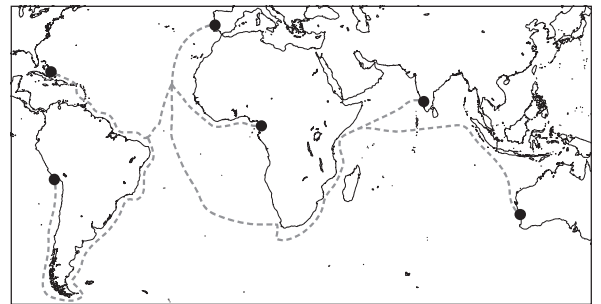
答の番号【1】

i群 (ア) 池田勇人 (イ) 田中角栄 (ウ) 鳩山一郎 (エ) 吉田茂

ii群 (カ) 火力 (キ) 原子力 (ク) 太陽光 (ケ) バイオマス

(2) 誠さんは、下線部②インドと世界の諸地域が結び付くようになった背景について調べ、15世紀にヨーロッパからインドへの航路が開拓されたことがきっかけの一つとなったことを知った。右の資料IIは、世界地図の一部に、バスコ・ダ・ガマがポルトガルを出発し、喜望峰の近くを通過して1498年にインドへ到達したときに通ったおおよその航路を、誠さんが示そうとしているものであり、資料II中の点線(-----)をなぞると完成する。答案用紙の地図中に、バスコ・ダ・ガマがポルトガルを出発し、喜望峰の近くを通過して1498年にインドへ到達したときに通ったおおよその航路を、点線をなぞって実線(——)で示せ。

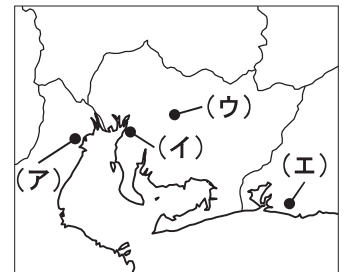
資料 II



答の番号【2】

(3) 誠さんは、下線部③自動車の生産が盛んな中京工業地帯について調べ、石油化学コンビナートで自動車の生産に必要な製品がつけられていることを知った。右の資料IIIは、中京工業地帯がある地域とその周辺を表した略地図である。石油化学コンビナートがある都市の一つである三重県四日市市の位置を示したものとして最も適当なものを、資料III中の(ア)~(エ)から1つ選べ。また、誠さんは、工業以外の産業の発展にも興味を持ち、中京工業地帯の中核をなす、中部地方の東海の農業について調べた。東海の農業について述べた文として最も適当なものを、次の(カ)~(ケ)から1つ選べ。

資料 III



答の番号【3】

- (カ) 根釧台地の牧場で、大規模な酪農が行われている。
- (キ) 冬でも温暖な気候を利用して、三浦半島で野菜が栽培されている。
- (ク) にわとりや豚、牛などを飼育する畜産が、桜島周辺の台地で行われている。
- (ケ) 豊川用水を利用して、菊が、夜間に照明を当てて開花時期を遅らせる方法で栽培されている。

(4) 誠さんは、下線部④インドネシアの文化や社会の様子について調べ、現在のインドネシアで最も多くの人が信仰している宗教が、メッカを聖地とし、西アジアを中心に広く信仰されていることを知った。この宗教として最も適当なものを、次のi群(ア)~(エ)から1つ選べ。また、誠さんは、インドネシアのジャカルタが工業化によって急速に成長した都市の一つであることを知り、アジア州の他の都市についても興味を持った。下のii群(カ)~(ケ)のうち、アジア州に位置する都市として最も適当なものを1つ選べ。

答の番号【4】

- i群 (ア) 仏教 (イ) ユダヤ教 (ウ) イスラム教 (エ) キリスト教
- ii群 (カ) リマ (キ) ドバイ (ク) ピッツバーグ (ケ) フランクフルト

(5) 誠さんは、温室効果ガス排出量の削減に関する国際的な取り組みに興味を持ち、世界の国々や地域が関わって2015年に採択されたパリ協定について調べた。右の文章は、パリ協定とパリ協定採択後の国際的な取り組みについて述べたものの一部である。文章中の [A]・[B] に入るものの組み合わせとして最も適当なものを、次の(ア)~(エ)から1つ選べ。

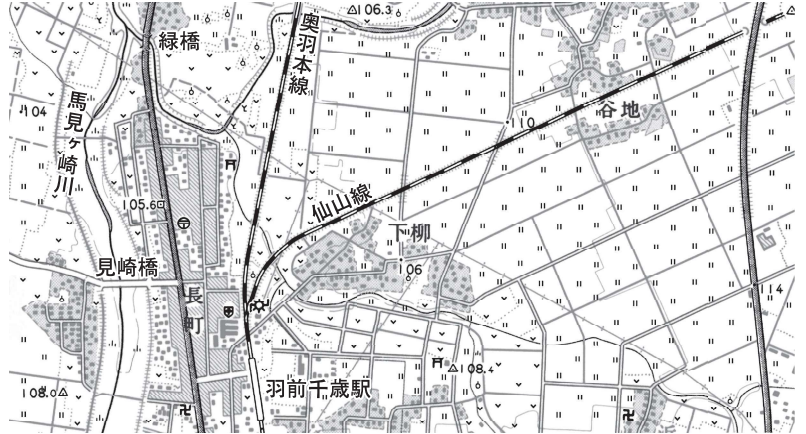
パリ協定は、2015年に開かれた会議で採択され、この会議に参加した、[A] が、温室効果ガス排出量の削減に取り組むことになった。温室効果ガス排出量を実質的にゼロにしていき、[B] を実現することを目指して新たな技術の開発などが、パリ協定に基づいて進められている。

- (ア) A 先進国のみ B 循環型社会
- (イ) A 先進国のみ B 脱炭素化(脱炭素社会)
- (ウ) A 先進国と発展途上国のいずれも B 循環型社会
- (エ) A 先進国と発展途上国のいずれも B 脱炭素化(脱炭素社会)

【裏へつづく】

2 山形県山形市に住む俊さんは、身近な地域について調べた。右の資料Ⅰ・Ⅱはそれぞれ、昭和49年及び令和7年の、山形市の「羽前千歳駅」周辺の2万5000分の1地形図の一部であり、同じ地域を表している。これらを見て、次の問い(1)～(5)に答えよ。(10点)

資料Ⅰ(昭和49年国土地理院発行2万5000分の1地形図「山形北部」より作成)



資料Ⅱ(令和7年5月国土地理院調製2万5000分の1地形図「山形北部」より作成)



(1) 俊さんは、資料Ⅰと資料Ⅱを比較し、地形図に示された地域の変化を読み取った。資料Ⅰから資料Ⅱで変化したことについて説明した文として適当なものを、次の(ア)～(エ)から2つ選べ。…答の番号【6】

- (ア) 「奥羽本線」より東の地域に郵便局がつくられた。
- (イ) 「緑橋」がある道路と「奥羽本線」の間の地域の、川の流れのルートが変わった。
- (ウ) 「見崎橋」の西の果樹園であった場所に老人ホームがつくられた。
- (エ) 「仙山線」沿いで開発が進められ、「仙山線」に駅が新設された。

(2) 俊さんは、資料Ⅰ・Ⅱ中の「仙山線」が1930年代に全線開通したことを知り、当時の日本や世界の情勢について調べた。次の(ア)～(エ)のうち、1930年代に起こったできごととして最も適当なものを1つ選べ。また、俊さんは、鉄道や道路などの社会資本の整備が政府の役割の一つであることを知り、経済活動における政府の役割に興味を持った。現在の日本において、独占禁止法に基づいて、市場経済における企業の競争を維持するために不正な行為を監視する行政機関を何委員会というか、漢字4字で書け。……………答の番号【7】

- (ア) 満州事変が起こった。 (イ) 日本がミッドウェー海戦で敗れた。
- (ウ) 国際連盟が設立された。 (エ) ロシア革命によって、ソビエト中心の社会主義の政府ができた。

(3) 俊さんは、資料Ⅰ・Ⅱ中の「馬見ヶ崎川」が最上川の支流であることを知った。最上川の下流に広がる平野として最も適当なものを、次のi群(ア)～(エ)から1つ選べ。また、右の文は、最上川の河口に位置する酒田港の江戸時代における繁栄について述べたものの一部である。文中の **A**・**B** に入るものの組み合わせとして最も適当なものを、下のii群(カ)～(ケ)から1つ選べ。……………答の番号【8】

- i群 (ア) 越後平野 (イ) 庄内平野 (ウ) 津軽平野 (エ) 播磨平野
- ii群 (カ) **A** 江戸 **B** 西廻り航路 (キ) **A** 江戸 **B** 東廻り航路
- (ク) **A** 大阪 **B** 西廻り航路 (ケ) **A** 大阪 **B** 東廻り航路

酒田港は、東北地方の米などを、「天下の台所」と呼ばれた **A** へと運送する **B** の拠点として栄えた。

(4) 俊さんは、資料Ⅱ中の「山形北 I C」付近に流通の拠点があることに気づき、商品の流通に興味を持った。次のi群(ア)～(エ)のうち、中世の日本で産業や交通が発展する中で、運送業を担った業者として適当なものを2つ選べ。また、右の文は、現代における流通の合理化の例について述べたものである。文中の **A**・**B** に入るものの組み合わせとして最も適当なものを、下のii群(カ)～(サ)から1つ選べ。…答の番号【9】

- i群 (ア) 問(問丸) (イ) 酒屋 (ウ) 土倉 (エ) 馬借
- ii群 (カ) **A** 卸売業者 **B** 小売業者 (キ) **A** 卸売業者 **B** 生産者
- (ク) **A** 小売業者 **B** 卸売業者 (ケ) **A** 小売業者 **B** 生産者
- (コ) **A** 生産者 **B** 卸売業者 (サ) **A** 生産者 **B** 小売業者

大型スーパーマーケットが農家から野菜を直接仕入れる場合、**A** を経路せずに **B** から商品を直接仕入れることで、流通の合理化が図られている。

(5) 俊さんは、山形県で盛んな果樹栽培に興味を持ち、2023年に山形県で栽培された果樹について調べ、右の資料Ⅲを作成した。資料Ⅲは、2023年の山形県における産出額が上位4位までの4つの果物について、産出額、収穫量、出荷量及び栽培面積をまとめたものである。資料Ⅲから読み取れることとして最も適当なものを、次の(ア)～(エ)から1つ選べ。…答の番号【10】

資料Ⅲ	産出額(億円)	収穫量(t)	出荷量(t)	栽培面積(ha)
さくらんぼ	378	13,000	11,700	2,880
ぶどう	139	13,800	12,400	1,460
りんご	89	30,300	27,000	2,060
西洋なし	60	13,200	11,700	823

農林水産省資料より作成

- (ア) さくらんぼ以外の3つの果物の産出額の合計は、さくらんぼの産出額よりも多い。
- (イ) 4つの果物のうち、ぶどうは、収穫量と出荷量がいずれも2番目に多く、栽培面積も2番目に大きい。
- (ウ) 4つの果物のうち、西洋なしは、栽培面積1haあたりの収穫量が最も多い。
- (エ) りんごは、出荷量が収穫量の90%未満であり、西洋なしは、出荷量が収穫量の90%以上である。

3 次の資料Ⅰは、咲さんが「日本における茶の歴史」というテーマで、さまざまなことを調べて作成したレポートの一部である。これを見て、下の問い(1)～(5)に答えよ。(10点)

資料Ⅰ

古代	中世	近世	近代
①平安時代の書物によると、中国から伝来した茶が天皇に献上されている。	禅宗の影響を受けて、今日の茶道につながる②茶の湯の基礎がつけられた。	新鮮な茶葉に熱を加えることで発酵を抑える製法が、③18世紀に考案された。	④緑茶は、明治時代の初め、生糸に次いで輸出額の多い輸出品目であった。

(1) 咲さんは、下線部①平安時代の文化について調べた。平安時代の日本の文化について述べた文として最も適当なものを、次の(ア)～(エ)から1つ選べ。……………答の番号【11】

- (ア) 安土城が築かれた。 (イ) 武士の戦いを描いた「平家物語」がつけられた。
 (ウ) 「古今和歌集」がまとめられた。 (エ) 出雲の阿国によって、かぶきおどりが始められた。

(2) 咲さんは、下線部②茶の湯について、わび茶が、京都に幕府が置かれた室町時代に始まり、後の時代に千利休によって大成されたことを知った。室町幕府について述べた文として最も適当なものを、次の(ア)～(エ)から1つ選べ。また、咲さんは、室町時代の代表的な建物の一つである銀閣がある慈照寺について調べ、右の資料Ⅱの東求堂同仁齋が、慈照寺の敷地にあることを知った。資料Ⅱには、床の間などをもつ建築様式が取り入れられている。この建築様式を何造というか、ひらがな4字で書け。……………答の番号【12】

- (ア) 北条氏が、代々執権となり、幕府を運営する執権政治を行った。
 (イ) 貿易船に中国から与えられた勘合を持たせ、勘合貿易を開始した。
 (ウ) 将軍を中心として、幕府と藩が全国の土地と人々を支配する幕藩体制をとった。
 (エ) 藤原氏が、幼い天皇のかわりに政治を行う摂政などの職に就き、政治の実権をにぎった。

(3) 咲さんは、下線部③18世紀にアメリカやフランスで市民革命が起こったことを知り、市民革命を経て保障されるようになっていった基本的人権について興味を持った。次の(ア)～(オ)は、日本国憲法で保障されている基本的人権の内容の一部を示している。(ア)～(オ)のうち、自由権の内容として適当なものをすべて選べ。……………答の番号【13】

- (ア) 労働者が団体でストライキを行う権利 (イ) 教育を受ける権利
 (ウ) 個人がお金や土地などの財産を所有する権利 (エ) 職業を選択する権利
 (オ) 選挙で代表者を選んだり、選挙に自ら立候補したりする権利

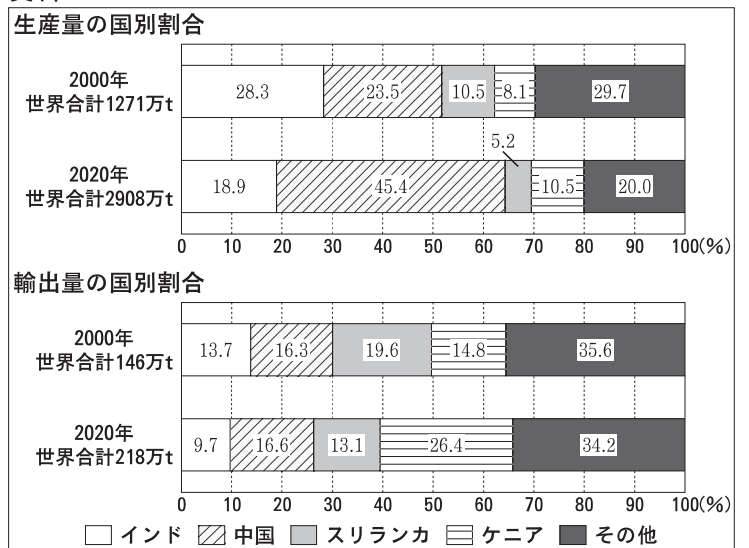
(4) 咲さんは、下線部④緑茶の輸出が盛んになったのは、欧米諸国との本格的な貿易が始まったことがきっかけであることを知った。右の文章は、1858年に日本とアメリカの間で結ばれた、貿易港を順次開くことを定めた条約について述べたものである。文章中の□に入る語句を、漢字6字で書け。また、咲さんは、欧米諸国との本格的な貿易が始まった19世紀後半の日本について調べた。次の(ア)～(エ)は、19世紀後半の日本で起こったできごとについて述べた文である。(ア)～(エ)を古いものから順に並べかえ、記号で書け。……………答の番号【14】

井伊直弼は、1858年にアメリカと□条約を結んだ。その結果、横浜などの港が開かれ、欧米諸国との本格的な貿易が始まった。

- (ア) 国会期成同盟が結成された。 (イ) 大日本帝国憲法が公布された。
 (ウ) 王政復古の大号令が出された。 (エ) 岩倉具視を代表とした岩倉使節団が日本を出発した。

(5) 咲さんは、現在の世界における茶の生産量と輸出量に興味を持ち、2000年と2020年における茶の生産量と輸出量の国別割合を調べて、右の資料Ⅲを作成した。資料Ⅲ中で示している4か国は、2000年と2020年における茶の生産量と輸出量のいずれにおいても、世界で上位4位までの国である。資料Ⅲから読み取れることとして適当なものを、次の(ア)～(オ)からすべて選べ。……………答の番号【15】

資料Ⅲ

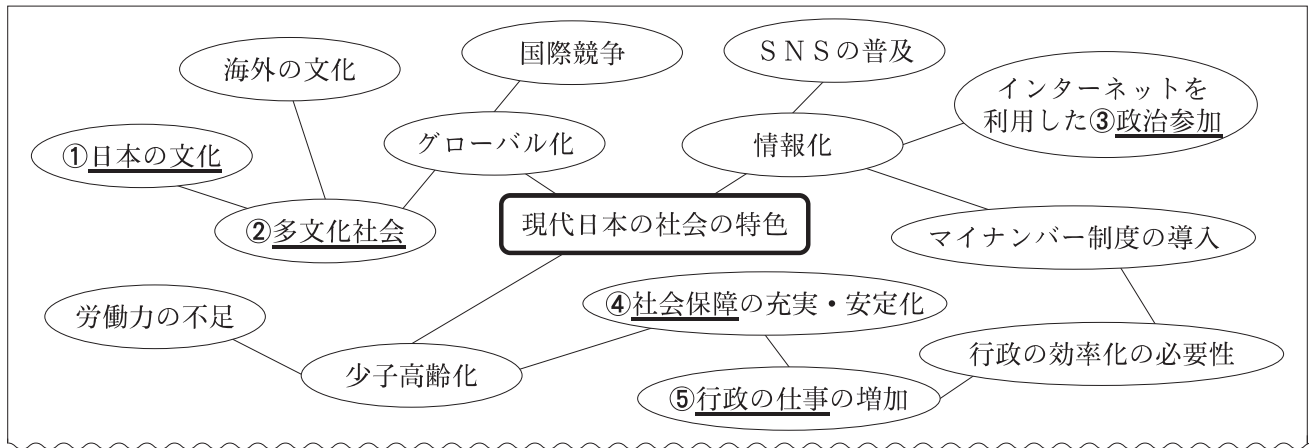


(四捨五入の関係で、内訳の合計が100%にならない場合がある。) 国連食糧農業機関ホームページより作成

- (ア) 上位4位までの国の、2000年の生産量の割合の合計は、75%以上である。
 (イ) 2000年における輸出量の国別割合が、上位4位までの国の中で最も高いのは、スリランカである。
 (ウ) 2020年におけるインドの輸出量は、30万t以上である。
 (エ) 2020年における中国の生産量は、2000年における中国の生産量の3倍以上である。
 (オ) 2020年における中国とケニアのそれぞれの、生産量に対する輸出量の割合を比較すると、ケニアの方が高い。

4 次の資料Ⅰは、春子さんが、現代日本の社会の特色についてウェブページを使って整理したもの的一部である。これを見て、下の問い(1)～(5)に答えよ。(10点)

資料Ⅰ



(1) 春子さんは、下線部①日本の文化が発展した背景の一つに、外国との交流があったことを知った。右の資料Ⅱは、中国などの影響を受けた飛鳥文化を代表する釈迦三尊像であり、聖徳太子が建てたと伝えられる寺院に残っている。また、右の文章は、春子さんが聖徳太子についてまとめたものである。文章中の [A]・[B] に入るものの組み合わせとして最も適当なものを、次の(ア)～(エ)から1つ選べ。……………答の番号【16】

資料Ⅱ

釈迦三尊像の写真

聖徳太子は、資料Ⅱの釈迦三尊像が残っている [A] を建てたと伝えられる。7世紀初めに国内の政治を整えた聖徳太子は、[B] 中国を統一した隋に、小野妹子らを送った。

- (ア) A 法隆寺 B 秦にかわって (イ) A 法隆寺 B 南朝と北朝に分かれていた
 (ウ) A 唐招提寺 B 秦にかわって (エ) A 唐招提寺 B 南朝と北朝に分かれていた

(2) 右の文章は、春子さんが、下線部②多文化社会の形成が進むオーストラリアについてまとめたものである。文章中の [A]・[B] に入るものの組み合わせとして最も適当なものを、次のi群(ア)～(エ)から1つ選べ。また、オーストラリアと同様に多文化社会の形成が進むカナダは、現在、英語とフランス語の両方を公用語と定めているが、フランスからカナダへの移住が本格的に進んだのは、ルイ14世がフランスを治めていた時代であった。ルイ14世の時代のフランス社会は、第一身分・第二身分・第三身分の3つの身分で構成される社会であったが、下のii群(カ)～(ケ)のうち、第一身分にあたるものとして最も適当なものを1つ選べ。……………答の番号【17】

オーストラリアを植民地として支配していた [A] からの移民を中心に国づくりが進められたが、1970年代以降、アジアなどの地域から移民を積極的に受け入れるようになり、多文化社会の形成が進んでいる。また、[B] を中心とする先住民の人々の文化も尊重されている。

- i群 (ア) A アメリカ B アボリジニ (イ) A アメリカ B ヒスパニック
 (ウ) A イギリス B アボリジニ (エ) A イギリス B ヒスパニック
 ii群 (カ) 貴族 (キ) 国王 (ク) 平民 (ケ) 聖職者

(3) 春子さんは、下線部③政治参加の方法のうち、選挙について興味を持った。右の資料Ⅲは、参議院議員の選挙区としてP県とQ県を仮定し、2つの選挙区それぞれの議員定数と有権者数を設定して示したものであり、次の文章は、春子さんが資料Ⅲを参考にして、選挙における一票の格差についてまとめたものである。文章中の [A] に入るものとして最も適当なものを、下のi群(ア)・(イ)から1つ選べ。また、文章中の [B] に、下のii群(カ)～(ス)の語句から3つ選び、それらを並べかえてできた表現を入れると文章が完成する。[B] に適切な表現が入るように、(カ)～(ス)の語句から3つ選び、それらを並べかえ、記号で書け。なお、同じ語句を複数回選んではいけない。……………答の番号【18】

資料Ⅲ

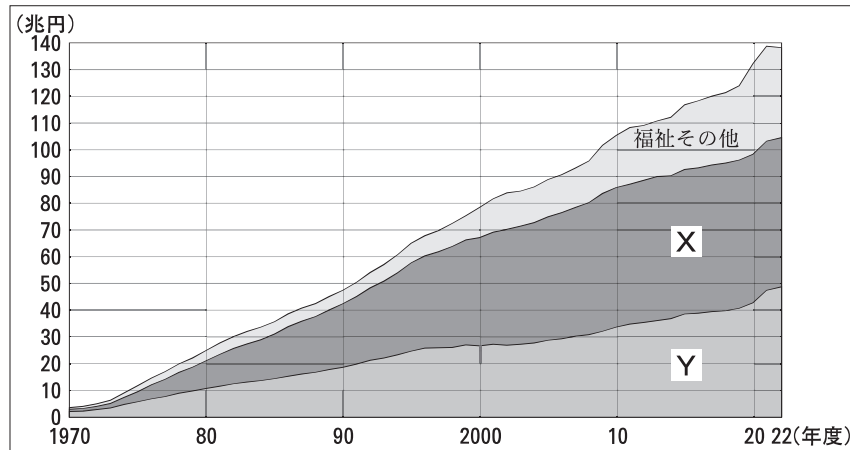
選挙区	議員定数	有権者数
P県	2人	60万人
Q県	8人	720万人

選挙区ごとの議員1人あたりの有権者数が異なることで生じる一票の格差について、日本国憲法第14条が保障する [A] などに反していないかどうか問われており、格差を是正する改革が行われている。資料Ⅲにおいては、P県の議員1人あたりの有権者数はQ県よりも [B] いるといえる。

- i群 (ア) 平等権 (イ) 請求権(国務請求権)
 ii群 (カ) 3倍となって (キ) 6人少なくて (ク) P県の議員1人あたりの有権者数がQ県の
 (ケ) 4倍となって (コ) 60万人少なくて (サ) Q県の議員1人あたりの有権者数がP県の
 (シ) 12倍となって (ス) 660万人少なくて

(4) 春子さんは、下線部④社会保障について考察した。右の資料IVは、1970年度から2022年度までの日本の社会保障給付費の推移を、医療、年金、福祉その他、の3つの部門に区分して示したものであり、X・Yの部門はそれぞれ、医療、年金のいずれかである。また、次の資料Vは、春子さんが資料IVを参考にして、日本の社会保障制度のあり方に関する考えをトゥールミン図式(トゥールミンモデル)を使ってまとめたものの一環である。資料V中の **A**・**B** に入るものの組み合わせとして最も適当なものを、下の(ア)~(エ)から1つ選べ。

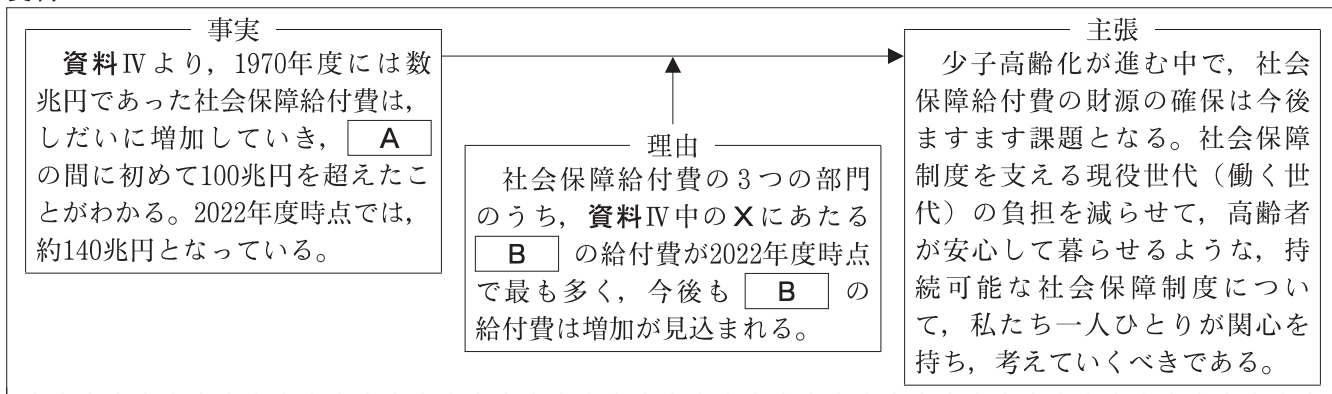
資料IV



国立社会保障・人口問題研究所ホームページより作成

.....答の番号【19】

資料V



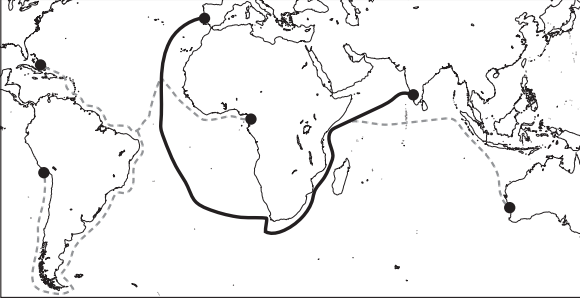
- (ア) A 2000年度から2010年度まで B 医療 (イ) A 2000年度から2010年度まで B 年金
 (ウ) A 2010年度から2020年度まで B 医療 (エ) A 2010年度から2020年度まで B 年金

(5) 右の文は、下線部⑤行政の仕事を行う人について、春子さんがまとめたものである。文中の に共通して入る語句を、漢字3字で書け。また、春子さんは、国の行政に責任をもつ内閣について調べた。内閣が行う仕事として適当でないものを、次の(ア)~(エ)から1つ選べ。答の番号【20】

国や地方の公的機関で働く について、日本国憲法の条文では、「すべて は、全体の奉仕者であつて、一部の奉仕者ではない。」と規定されている。

- (ア) 条約を承認する。 (イ) 最高裁判所長官を指名する。
 (ウ) 法律を執行する。 (エ) 天皇の国事行為に対する助言と承認を行う。

検 査 2 社 会 正 答 表

問題番号	答の番号	答 の 欄		備考欄		配点				
1	(1)	【1】	i群 ①	ii群 ㊦ ㊧	【1】	㊦・㊧は完全解答	2 (各1)			
	(2)	【2】			【2】		2			
	(3)	【3】	㊦		㊧	【3】		2 (各1)		
	(4)	【4】	i群	㊦	ii群 ㊦	【4】		2 (各1)		
	(5)	【5】			㊦	【5】		2		
2	(1)	【6】	㊦	①	【6】	完全解答	2			
	(2)	【7】	㊦	公 正 取 引	委員会	【7】		2 (各1)		
	(3)	【8】	i群	①	ii群	㊦	【8】		2 (各1)	
	(4)	【9】	i群	㊦	㊦	ii群	㊦	【9】	㊦・㊦は完全解答	2 (各1)
	(5)	【10】			㊦	【10】		2		
3	(1)	【11】		㊦	【11】		1			
	(2)	【12】	①	し ょ い ん	造	【12】		2 (各1)		
	(3)	【13】		㊦	㊦	【13】	完全解答	2		
	(4)	【14】	日 米 修 好 通 商	(㊦)→(㊦)→(㊦)→(㊦)		【14】	㊦→㊦→㊦→㊦は完全解答	3 (1, 2)		
	(5)	【15】		①	㊦	㊦	【15】	完全解答	2	
4	(1)	【16】		①	【16】		2			
	(2)	【17】	i群	㊦	ii群	㊦	【17】		2 (各1)	
	(3)	【18】	i群	㊦	ii群	(コ)→(サ)→(カ)	【18】	完全解答	2	
	(4)	【19】		①	【19】		2			
	(5)	【20】	公 務 員		㊦	【20】		2 (各1)		

検査	受付番号							得			
2								点			