

中期選抜学力検査

検査2

社 会

解答上の注意

- 1 「始め」の指示があるまで、問題を見てはいけません。
- 2 問題は、この冊子の中の1～4ページにあります。
- 3 答案用紙には、受付番号を記入しなさい。氏名を書いてはいけません。
- 4 答案用紙の答の欄に答えを記入しなさい。採点欄に記入してはいけません。
- 5 答えを記入するときは、それぞれの問題に示してある【答の番号】と、答案用紙の【答の番号】とが一致するように注意しなさい。
- 6 答えを記号で選ぶときは、答案用紙の答の欄の当てはまる記号を○で囲みなさい。答えを訂正するときは、もとの○をきれいに消すか、それに×をつけなさい。
- 7 答えを記述するときは、丁寧に書きなさい。
- 8 字数制限がある場合は、句読点や符号なども1字に数えなさい。
- 9 答えの書き方について、次の解答例を見て間違いのないようにしなさい。

解答例

- 1 火曜日の翌日は何曜日か、漢字1字で書け。
 ……………答の番号【1】
- 2 次の(ア)～(ウ)の数を値の小さいものから順に並べかえ、記号で書け。 ……………答の番号【2】
 (ア) 7 (イ) 5 (ウ) 3
- 3 次の問い(1)・(2)に答えよ。
 (1) 「京」の絵画数として最も適当なものを、次の(ア)～(ウ)から1つ選べ。 ……答の番号【3】
 (ア) 7画 (イ) 8画 (ウ) 9画
 (2) 次の(ア)～(オ)のうち、奇数をすべて選べ。
 ……………答の番号【4】
 (ア) 1 (イ) 2 (ウ) 3
 (エ) 4 (オ) 5

問題番号	答の番号	答の欄	採点欄
1	【1】	水 曜日	[1]
2	【2】	(ウ)→(イ)→(ア)	[2]
3	(1) 【3】	ア (イ) ウ	[3]
	(2) 【4】	(ア)イ(ウ)エ(オ)	[4]

検査	受付番号	得点
2	1 2 3 4 5 6	

このページに問題は印刷されていません

1 ^{めぐみ} 恵さんは、世界遺産についてさまざまなことを調べた。右の資料Ⅰは、最初の世界遺産として1978年に登録された自然や文化財がある国々を、世界地図の一部に恵さんが灰色で塗って示したものである。これを見て、次の問い(1)～(5)に答えよ。(10点)

資料Ⅰ



(1) 恵さんは、資料Ⅰ中のアメリカ合衆国における最初の世界遺産の一つが、広大な自然が見られるイエローストーン国立公園であることを知り、アメリカ合衆国の自然について調べた。アメリカ合衆国の自然について述べた文として最も適当なものを、次の(ア)～(エ)から1つ選べ。また、アメリカ合衆国は、地球環境問題の解決に向けた協定に2021年に復帰した。すべての参加国が温室効果ガスの削減目標を定め、その目標を達成するために努力していくことを義務づけたこの協定を何協定というか、カタカナ2字で書け。……………答の番号【1】

- (ア) ライン川が流れている。 (イ) チベット高原が広がっている。
(ウ) ミシシッピ川が流れている。 (エ) パンパと呼ばれる草原が広がっている。





(2) 恵さんは、資料Ⅰ中のエクアドルにおける最初の世界遺産の一つが、19世紀にエクアドルが領有を宣言したガラパゴス諸島であることを知り、19世紀の世界について調べた。19世紀に世界で起こったできごととして最も適当なものを、次のi群(ア)～(エ)から1つ選べ。また、エクアドルではバナナの生産が盛んである。右の資料Ⅱは、2016年におけるバナナの輸出量が世界で上位5位までの国の、バナナ生産量と輸出量を、世界合計とともに示したものである。資料Ⅱから読み取れることとして最も適当なものを、下のii群(カ)～(ケ)から1つ選べ。……………答の番号【2】

資料Ⅱ

	生産量(万t) (2016年)	輸出量(万t) (2016年)
エクアドル	653	597
グアテマラ	378	215
コスタリカ	241	237
コロンビア	204	184
フィリピン	583	140
世界合計	11,328	2,064

「データブック オブ・ザ・ワールド 2019」より作成

- i群 (ア) インド大反乱が起こった。 (イ) ロシア革命によって社会主義の政府ができた。
(ウ) フランス人権宣言が発表された。 (エ) イギリスで権利の章典(権利章典)が制定された。
- ii群 (カ) エクアドルとフィリピンのバナナ生産量の差は、輸出量の差よりも大きい。
(キ) エクアドルのバナナ生産量は、グアテマラとコスタリカのバナナ生産量の合計より少ない。
(ク) バナナの輸出量の世界合計に占めるエクアドルの割合は、25%以上である。
(ケ) バナナの輸出量が生産量の80%を超えているのは、エクアドルとコロンビアのみである。

(3) 恵さんは、資料Ⅰ中のエチオピアにおける最初の世界遺産の一つが、ラリベラの岩窟教会群というキリスト教の教会群であることを知り、エチオピアで信仰されている宗教に興味を持った。右の資料Ⅲは、恵さんが、2007年のエチオピアにおけるキリスト教、イスラム教、その他の宗教を信仰している人口をそれぞれ調べてまとめたものである。また、右の資料Ⅳは、資料Ⅲをもとに、2007年のエチオピアで信仰されている宗教の割合を、小数第1位を四捨五入して求め、その他の部分を  で示したうえで、キリスト教の部分を 、イスラム教の部分を  で円グラフに示そうとしている途中のものである。答案用紙の図中に、キリスト教の部分をすべて  で塗って示し、円グラフを完成させよ。……………答の番号【3】

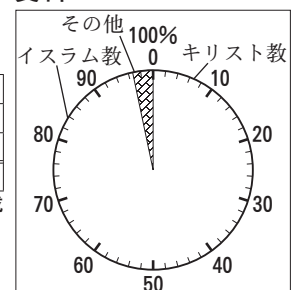
資料Ⅲ

エチオピアにおける宗教別人口(万人)

キリスト教	4,629
イスラム教	2,504
その他	242
合計	7,375

国際連合ホームページより作成

資料Ⅳ



(4) 恵さんは、資料Ⅰ中のドイツにおける最初の世界遺産が、1000年以上の歴史を持つアーヘン大聖堂であることを知り、ドイツの歴史について調べた。ドイツについて述べた文として適当なものを、次の(ア)～(オ)から2つ選べ。……………答の番号【4】

- (ア) 大西洋憲章を発表した。 (イ) 第一次世界大戦においてイギリスと同盟を結んだ。
(ウ) ワイマル憲法が制定された。 (エ) 第二次世界大戦においてイタリアと同盟を結んだ。
(オ) ミッドウェー海戦でアメリカに敗れた。

(5) 恵さんは、世界遺産を登録し保護しているユネスコ(国際連合教育科学文化機関)が、国際連合の専門機関の一つであることを知り、国際連合について調べた。国際連合について述べた文として適当でないものを、次のi群(ア)～(エ)から1つ選べ。また、恵さんは、日本の世界遺産についても調べ、正倉院が世界遺産の一つであることを知った。正倉院に遺品が納められている、天平文化の頃の人物として最も適当なものを、下のii群(カ)～(ケ)から1つ選べ。……………答の番号【5】

- i群 (ア) 現在の加盟国は190か国以上である。
(イ) 専門機関の一つとしてWHO(世界保健機関)がある。
(ウ) 安全保障理事会では常任理事国のみが拒否権を持っている。
(エ) 総会において各加盟国が投票できる票数は人口に比例して決められている。
- ii群 (カ) 桓武天皇 (キ) 聖武天皇 (ク) 推古天皇 (ケ) 後三条天皇

2 拓斗さんは、社会科の授業で「魅力的な旅行プラン」を提案することになり、夏の北海道を舞台とした旅行プランを考え、その行程にあることからに関して調べた。右の資料Ⅰは、拓斗さんが作成した行程表の一部である。これを見て、次の問い(1)～(5)に答えよ。(10点)

「北海道の自然と歴史の体感ツアー」の行程表

1日目	①成田国際空港…たんちょう釧路空港＝北方四島交流センターで②北方領土について学ぶ。(③根室市)＝宿泊施設
2日目	宿泊施設＝搾乳体験(④別海町)＝阿寒湖で伝統文化体験＝宿泊施設(夕食後にスターウォッチング)
3日目	宿泊施設＝⑤釧路湿原で清掃活動とカヌー体験＝塘路駅－(くしろ湿原ノロッコ号に乗車)－釧路駅＝宿泊施設

(1) 拓斗さんは、下線部①成田国際空港が日本有数の貿易の拠点であることを知り、貿易を行う空港と港について調べた。右の資料Ⅱは、2019年の日本の空港や港における輸入額と輸出額のそれぞれ上位6港について、拓斗さんが調べたことをまとめたものである。また、資料Ⅱ中の

資料Ⅱ

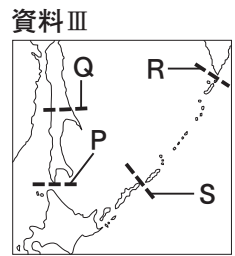
輸入額 (2019年)				輸出額 (2019年)			
順位	空港・港名	輸出入総額に占める輸入額の割合	1位の品目	順位	空港・港名	輸出入総額に占める輸出額の割合	1位の品目
1	A	55.2%	通信機	1	C	70.8%	自動車
2	B	66.4%	衣類	2	A	44.8%	半導体等製造装置
3	C	29.2%	液化ガス	3	横浜港	58.7%	自動車
4	横浜港	41.3%	石油	4	B	33.6%	半導体等製造装置
5	大阪港	55.9%	衣類	5	神戸港	62.7%	プラスチック
6	D	43.4%	医薬品	6	D	56.6%	集積回路

「日本国勢図会 2020/21」より作成

A～Dはそれぞれ、成田国際空港、関西国際空港、東京港、名古屋港のいずれかである。成田国際空港と名古屋港にあたるものをA～Dからそれぞれ1つずつ選べ。……………答の番号【6】

(2) 拓斗さんは、下線部②北方領土について調べる中で、日本とロシアの国境が移り変わってきたことを知り、右の資料Ⅲを作成した。資料Ⅲは、北方領土周辺の略地図であり、P～Sの点線(---)はこれまでに日本とロシアの国境であった境界線を示している。1905年のポーツマス条約の締結によって国境はどのように変化したか、国境の変化を示す組み合わせとして最も適当なものを、次の(ア)～(エ)から1つ選べ。……………答の番号【7】

(ア) 締結前はPとR、締結後はQとR (イ) 締結前はPとR、締結後はQとS
 (ウ) 締結前はPとS、締結後はQとR (エ) 締結前はPとS、締結後はQとS



(3) 拓斗さんは、下線部③根室市でかつて風力発電所の建設が中止されたことを知り、再生可能エネルギーについて調べた。右の文章は、拓斗さんが再生可能エネルギーを利用した発電についてまとめたものである。文章中の□に入る適当な表現を、供給量という語句を用いて9字以内で書け。……………答の番号【8】

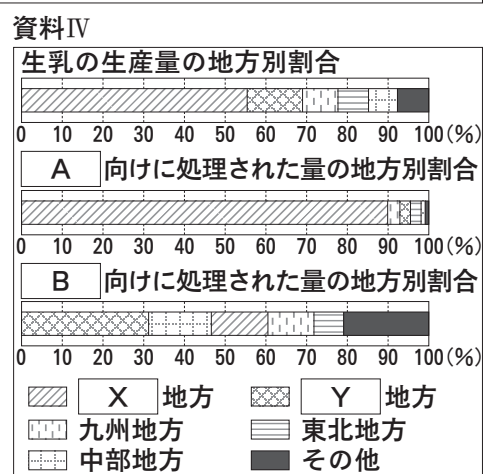
再生可能エネルギーを利用した発電は、温室効果ガスの排出量が少ないなど、地球温暖化対策として有効である一方で、発電コストが高いことや自然条件に電力の□ことだけでなく、立地場所の生態系への影響の大きさなどが指摘されている。そのため、再生可能エネルギーを利用した発電の拡大には、地球温暖化対策と生態系の保全などとの適切なバランスが求められている。

下書き用

--	--	--	--

(4) 拓斗さんは、下線部④別海町で生乳の生産が盛んなことを知り、生乳について調べた。右の資料Ⅳは、2019年に全国で生産された生乳の生産量の地方別割合と、全国で生産された生乳の牛乳等向けと乳製品向けに処理された量の地方別割合をそれぞれ、拓斗さんが示したものであり、□A・□Bには牛乳等か乳製品のいずれか、□X・□Yには北海道か関東のいずれかが入る。□Aと□Yに入るものの組み合わせとして正しいものを、次の(ア)～(エ)から1つ選べ。また、別海町は、社会生活を営む上でサポートが必要な人々の生活に対する保障や支援の一つとして、町の高齢者などに対して牛乳を配付している。これは、社会保障制度を構成する四つの柱のうち、何に含まれるか、ひらがな7字で書け。……………答の番号【9】

(ア) A 牛乳等 Y 北海道 (イ) A 牛乳等 Y 関東
 (ウ) A 乳製品 Y 北海道 (エ) A 乳製品 Y 関東



(5) 拓斗さんは、下線部⑤釧路湿原の保全活動の一つである清掃活動に、多くの企業が参加していることを知り、企業の活動について調べ、右の文のようにまとめた。文中の□に入る語句を、漢字5字で書け。また、現在の日本の企業について述べた文として最も適当なものを、次の(ア)～(エ)から1つ選べ。……………答の番号【10】

(ア) 企業の10%以上が大企業である。
 (イ) 企業間の健全な競争が独占禁止法によって制限されている。
 (ウ) 成果主義による賃金制度にかわって、年功序列型の賃金制度を導入する企業が増えている。
 (エ) 独自の技術や新たなビジネスモデルを用いて事業を展開する企業は、ベンチャー企業と呼ばれる。

企業は法令を守り、より良い商品やサービスを生産し、利潤を追求するだけでなく、環境保全や地域文化への貢献などの「企業の□(CSR)」を果たすことが期待されている。

3 次の資料Iは、「粉河寺縁起絵巻」の一部であり、右の会話は、資料Iを見ながら桜さんと俊さんが交わしたものの一部である。これを見て、下の問い(1)～(5)に答えよ。(10点)

資料I



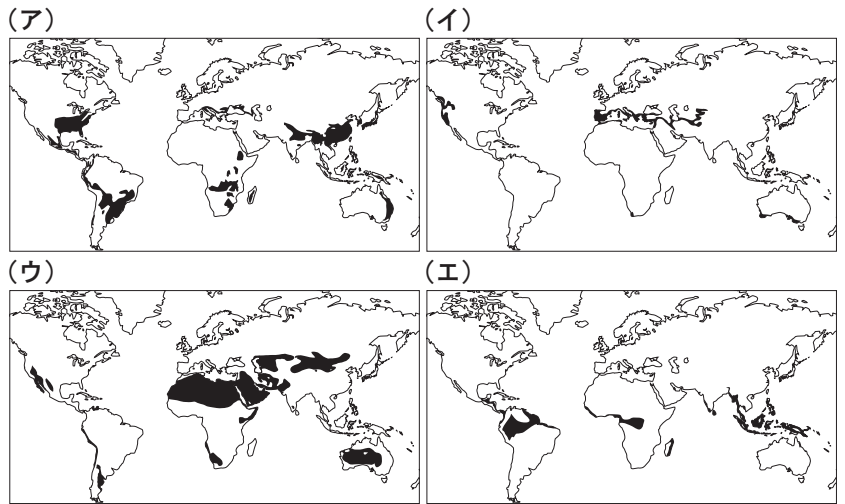
桜 この場面は、平安時代後期の有力者の屋敷の前の様子みたいだよ。やぐらや堀があって、門の前にいる武士たちが描かれているね。
 俊 そうだね。X が行われ、Y 文化が栄えた平安時代中期の寝殿造の屋敷と様子が全く異なるね。
 桜 つまり、同じ時代でも①住居の形態や様子は変化しているってことだね。ところで、屋敷に向かう人々は、何を運んでいるんだろう。
 俊 これはきっと②年貢の一部だよ。門の前にいる武士たちは、年貢を保管している屋敷の③警備をしているんじゃないかな。
 桜 なるほど。そういえば、武士が警備などの役割を担ったことは、武士が中央の④政治に関わるきっかけになったと先生が言ってたね。

(1) 会話中の X・Y に入るものとして最も適当なものを、X は次の i 群 (ア)～(エ) から、Y は ii 群 (カ)～(ケ) からそれぞれ1つずつ選べ。……………答の番号【11】

- i 群 (ア) 藤原氏による摂関政治 (イ) 醍醐天皇による建武の新政
 (ウ) 北条氏による執権政治 (エ) 中大兄皇子らによる大化の改新
 ii 群 (カ) 北山 (キ) 国風 (ク) 南蛮 (ケ) 東山

(2) 桜さんは、下線部①住居 写真

に興味を持ち、現代のさまざまな住居について調べた。桜さんは、右の写真の住居は、石でつくられ、石灰で壁が白く塗られたり、小さい窓の外側にブラインドが付けられたりしており、この住居がある気候を特徴づけるものであることを知った。右の (ア)～(エ) の、特定の気候の分布を黒で塗って示した世界地図の一部のうち、写真のような住居が多く見られる地域の気候の分布を示しているものとして、最も適当なものを1つ選べ。……………答の番号【12】



(3) 桜さんは、下線部②年貢に関する歴史について調べた。次の (ア)～(エ) は、年貢に関することについて述べた文である。(ア)～(エ) を古いものから順に並べかえ、記号で書け。……………答の番号【13】

- (ア) 村役人となった有力な本百姓は、年貢を徴収して幕府や藩に納入する責任を負った。
 (イ) 治安維持や年貢の徴収・納入を職務とする地頭を置くことを、朝廷が初めて認めた。
 (ウ) 重い年貢や借金に反発して団結した農民が、近畿地方を中心に土一揆を起こすようになった。
 (エ) 荘園領主や幕府に従わず、年貢をうばう悪党と呼ばれる武士が近畿地方を中心に現れ始めた。

(4) 桜さんは、かつて民衆が担っていた、下線部③警備について以前に学習したことを、右の文章のようにまとめていた。文章中の A・B に入るものとして最も適当なものを、A は次の i 群 (ア)～(ウ) から、B は ii 群 (カ)～(ク) からそれぞれ1つずつ選べ。また、文章中の C に入る語句を、漢字3字で書け。…答の番号【14】

- i 群 (ア) 北海道 (イ) 東北 (ウ) 九州
 ii 群 (カ) 防人 (キ) 守護 (ク) 屯田兵

奈良時代の民衆には、年間60日以内の労役や A 地方の北部におかれた B のような兵役など、一家の働き手をうばわれてしまう重い負担が課せられた。当時の民衆の厳しい生活や B のつらさを詠んだ歌は奈良時代にまとめられた C という和歌集に収められている。

(5) 桜さんは、下線部④政治に私たちの意見を反映させるためには、選挙が重要であることを知り、日本の選挙について調べた。右の資料IIは、桜さんが作成した2017年の日本の年齢別総人口と、2017年10月に行われた第48回衆議院議員総選挙の年齢別投票率を示すグラフである。資料II中の20歳代の投票者数は、60歳代の投票者数の約何倍と推定できるか、最も適当なものを、次の i 群 (ア)～(ウ) から1つ選べ。また、現在の日本における選挙について述べた文として最も適当なものを、下の ii 群 (カ)～(ケ) から1つ選べ。…答の番号【15】

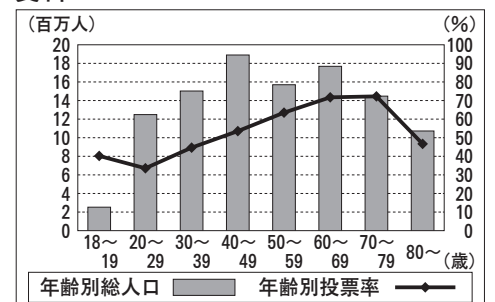
- i 群 (ア) 約0.3倍 (イ) 約0.5倍 (ウ) 約0.7倍
 ii 群 (カ) 衆議院議員と参議院議員の被選挙権を得られる年齢は、同じである。

(キ) 国政選挙において、外国に居住している有権者は投票することができない。

(ク) 選挙に立候補した者は、SNSで情報を発信する選挙運動を行うことが認められている。

(ケ) 選挙当日に旅行などの外出により投票できない場合、選挙期日前に投票することは認められていない。

資料II



(注) 年齢別総人口は、2017年10月1日時点のものである。また、年齢別投票率の数値は全国から抽出して調査したものである。

総務省資料より作成

- 4 真さんのクラスでは「現代の日本の特色」について、班ごとにテーマを決めて調べ学習に取り組んだ。次の表は、1～5班のテーマを示したものである。これを見て、下の問い(1)～(5)に答えよ。(10点)

班	1班	2班	3班	4班	5班
テーマ	諸外国との関係	情報化の進展	家族の形態の変化	交通網の整備	働き方の変化

- (1) 1班は、現在の日本と諸外国との関係が、日本がこれまで諸外国と結んできた多くの条約や同盟によって築かれていることを知った。右の資料Ⅰは、日本が外国と結んだ条約を、1班が年代順に並べて作成したものである。資料Ⅰ中のA～Dのうち、日英同盟が結ばれた時期はどれか、1つ選べ。また、明治時代には不平等条約の改正を目的の一つとして岩倉使節団が欧米に派遣された。岩倉使節団に同行した女子留学生で、女子教育の発展に努めた人物として最も適当なものを、次の(ア)～(エ)から1つ選べ。……答の番号【16】

資料Ⅰ

A	日米和親条約が結ばれる
B	下関条約が結ばれる
C	ロンドン海軍軍縮条約が結ばれる
D	日ソ中立条約が結ばれる
	日韓基本条約が結ばれる

- (ア) 津田梅子 (イ) 樋口一葉 (ウ) 平塚らいてう
- (2) 2班は、情報化の進展の中で情報を大量に扱うマスメディアについて調べた。右の文章は、2班がマスメディアの特徴についてまとめたものの一部である。文章中のA・Bに入る語句の組み合わせとして最も適当なものを、次のi群(ア)～(エ)から1つ選べ。また、2班は、情報化の進展に伴い、情報公開条例が各地で制定されていることを知った。条例の制定や改廃を住民が首長に請求する場合、有権者の何分の1以上の署名が必要か、最も適当なものを、下のii群(カ)～(ケ)から1つ選べ。…答の番号【17】

- (エ) 与謝野晶子

1945年に A によって昭和天皇が日本の降伏を国民に伝えたように、マスメディアは多くの人々に一斉に情報を伝え、世論に影響を与えることもある。例えば、1960年代から70年代における B 戦争では、マスメディアが戦況を伝えたことで、アメリカの撤兵を求める反戦運動を支持する世論が各地で高まったことなどが挙げられる。

- i群 (ア) A テレビ放送 B 朝鮮 (イ) A テレビ放送 B ベトナム
 (ウ) A ラジオ放送 B 朝鮮 (エ) A ラジオ放送 B ベトナム
- ii群 (カ) 2分の1以上 (キ) 3分の1以上 (ク) 4分の1以上 (ケ) 50分の1以上

- (3) 3班は、家族の形態の変化について調べ、1960年代以降に、核家族世帯が増加したことを知った。次の(ア)～(オ)のうち、核家族世帯にあたるものをすべて選べ。また、右の文は、3班が家庭生活を含めた共生社会の実現について書いたものの一部である。文中の□に入る語句を漢字6字で書け。……答の番号【18】

性別による役割分担という固定的な考え方を取り除き、女性の社会進出を進め、男女が家庭生活や仕事において対等な立場で活躍できる社会をつくることが求められており、1999年には男女□基本法が制定された。

- (ア) 単独(一人)世帯 (イ) 夫婦のみの世帯
 (ウ) 夫婦と未婚の子どもの世帯 (エ) 夫婦と未婚の子どもと夫婦の両親の世帯
 (オ) 一人親(父または母のみ)と未婚の子どもの世帯

- (4) 4班は、交通網の整備について調べる中で、東京都と青森県を結ぶ国道4号線が、日本の陸路の国道の中で一番距離が長いことを知った。右の資料Ⅱは、東京都を出発して国道4号線を青森県まで北上する際に通過する都道府県をすべて、通過する順にまとめたものである。資料Ⅱ中のAに入る県名を漢字で書け。また、青森県が属する東北地方について述べた文として最も適当なものを、次の(ア)～(エ)から1つ選べ。……答の番号【19】

資料Ⅱ

東京都	→	埼玉県	→
茨城県	→	栃木県	→
A	→	宮城県	→
岩手県	→	青森県	

- (ア) 8つの県が属している。 (イ) 源義経らが平氏をほろぼした戦いが行われた。
 (ウ) 五街道のすべてが通っていた。 (エ) 天童将棋駒や南部鉄器などの伝統的工芸品がつけられている。

- (5) 5班は、働き方の変化として、労働時間に注目した。右の資料Ⅲは、全産業における1995年から2015年にかけての、所定内労働時間、所定外労働時間、所定内労働時間と所定外労働時間の合計である総実労働時間、労働者のうちパートタイム労働者の割合を5班が示したものである。資料Ⅲから読み取れることとして適当なものを、次の(ア)～(オ)から2つ選べ。…答の番号【20】

資料Ⅲ

	所定内労働時間(時間)	所定外労働時間(時間)	総実労働時間(時間)	パートタイム労働者の割合(%)
1995年	1772.4	136.8	1909.2	11.6
2000年	1719.6	139.2	1858.8	17.3
2005年	1680.0	150.0	1830.0	21.3
2010年	1653.6	144.0	1797.6	23.3
2015年	1629.6	154.8	1784.4	25.4

(注：所定内労働時間…各事業所の就業規則で定められた労働時間のうち、実際に労働した時間
 所定外労働時間…残業や休日出勤など就業規則で定められた労働時間以外で実際に労働した時間
 パートタイム労働者…正規の労働時間や労働日数で働く一般労働者よりも労働時間や労働日数が短い労働者)

厚生労働省資料より作成

- (ア) 2015年の所定内労働時間と所定外労働時間はそれぞれ、1995年の所定内労働時間と所定外労働時間より減少した。
 (イ) 2000年の総実労働時間に占める所定外労働時間の割合は、2015年の総実労働時間に占める所定外労働時間の割合より少ない。
 (ウ) 2010年の総実労働時間は、1995年の総実労働時間より100時間以上長い。
 (エ) 所定内労働時間が1700時間未満の年は、パートタイム労働者の割合が20%以下である。
 (オ) 2015年のパートタイム労働者の割合は、1995年のパートタイム労働者の割合の2倍以上である。

【社会おわり】

検査 2 社会 答案用紙

問題番号	答の番号	答	の	欄	採点欄				
1	(1)	【1】	ア イ ウ エ	<input style="width: 40px; height: 20px; border: 1px dashed black;" type="text"/> <input style="width: 40px; height: 20px; border: 1px dashed black;" type="text"/> 協定	【1】				
	(2)	【2】	i群 ア イ ウ エ	ii群 カ キ ク ケ	【2】				
	(3)	【3】	<p style="font-size: small; text-align: center;"> 100% キリスト教 10 その他 0 イスラム教 90 90 80 70 60 50 40 30 20 10 0 </p>			【3】			
	(4)	【4】	ア	イ	ウ	エ	オ	【4】	
	(5)	【5】	i群 ア イ ウ エ	ii群	カ	キ	ク	ケ	【5】
2	(1)	【6】	成田国際空港 A B C D	名古屋港	A B C D	【6】			
	(2)	【7】	ア	イ	ウ	エ	【7】		
	(3)	【8】	<input style="width: 100%; height: 20px; border: 1px dashed black;" type="text"/>			【8】			
	(4)	【9】	ア イ ウ エ	<input style="width: 100%; height: 20px; border: 1px dashed black;" type="text"/>			【9】		
	(5)	【10】	<input style="width: 40px; height: 20px; border: 1px dashed black;" type="text"/> <input style="width: 40px; height: 20px; border: 1px dashed black;" type="text"/>		ア	イ	ウ	エ	【10】
3	(1)	【11】	i群 ア イ ウ エ	ii群	カ	キ	ク	ケ	【11】
	(2)	【12】	ア	イ	ウ	エ	【12】		
	(3)	【13】	() → () → () → ()			【13】			
	(4)	【14】	i群 ア イ ウ	ii群	カ	キ	ク	<input style="width: 40px; height: 20px; border: 1px dashed black;" type="text"/>	【14】
	(5)	【15】	i群 ア イ ウ	ii群	カ	キ	ク	ケ	【15】
4	(1)	【16】	A B C D	ア	イ	ウ	エ	【16】	
	(2)	【17】	i群 ア イ ウ エ	ii群	カ	キ	ク	ケ	【17】
	(3)	【18】	ア イ ウ エ オ	<input style="width: 100%; height: 20px; border: 1px dashed black;" type="text"/>			【18】		
	(4)	【19】	県		ア	イ	ウ	エ	【19】
	(5)	【20】	ア	イ	ウ	エ	オ	【20】	

検査	受付番号	<input style="width: 100%; height: 20px;" type="text"/>	<input style="width: 100%; height: 20px;" type="text"/>	<input style="width: 100%; height: 20px;" type="text"/>	<input style="width: 100%; height: 20px;" type="text"/>	<input style="width: 100%; height: 20px;" type="text"/>	得点	<input style="width: 100%; height: 20px;" type="text"/>
2	受付番号	<input style="width: 100%; height: 20px;" type="text"/>	<input style="width: 100%; height: 20px;" type="text"/>	<input style="width: 100%; height: 20px;" type="text"/>	<input style="width: 100%; height: 20px;" type="text"/>	<input style="width: 100%; height: 20px;" type="text"/>	点	<input style="width: 100%; height: 20px;" type="text"/>

検査 2 社会 正答表

問題番号	答の番号	答の欄		備考欄			
					配点		
1	(1)	【1】	㉔	パ リ 協定	【1】	2 (各1)	
	(2)	【2】	i群 ㉓	ii群 ㉕	【2】	2 (各1)	
	(3)	【3】	<p style="font-size: small; text-align: center;"> 100% キリスト教 30 イスラム教 90 その他 0 </p>		【3】	2	
	(4)	【4】	㉔	㉑	【4】	完全解答 2	
	(5)	【5】	i群 ㉑	ii群 ㉒	【5】	2 (各1)	
2	(1)	【6】	成田国際空港 ㉑	名古屋港 ㉓	【6】	2 (各1)	
	(2)	【7】	㉓		【7】	2	
	(3)	【8】	(例) 供給量が左右される		【8】	2	
	(4)	【9】	㉑	しゃかいふくし	【9】	2 (各1)	
	(5)	【10】	社会的責任	㉑	【10】	2 (各1)	
3	(1)	【11】	i群 ㉓	ii群 ㉒	【11】	完全解答 2	
	(2)	【12】	㉑		【12】	2	
	(3)	【13】	(イ)→(エ)→(ウ)→(ア)		【13】	完全解答 2	
	(4)	【14】	i群 ㉔	ii群 ㉑	万葉集	【14】	ウ・カは 完全解答 2 (各1)
	(5)	【15】	i群 ㉓	ii群 ㉕	【15】	2 (各1)	
4	(1)	【16】	㉒	㉓	【16】	2 (各1)	
	(2)	【17】	i群 ㉑	ii群 ㉕	【17】	2 (各1)	
	(3)	【18】	㉑ ㉔ ㉑	共同参画社会	【18】	イ・ウ・オは 完全解答 2 (各1)	
	(4)	【19】	福島県	㉑	【19】	2 (各1)	
	(5)	【20】	㉑		【20】	完全解答 2	