

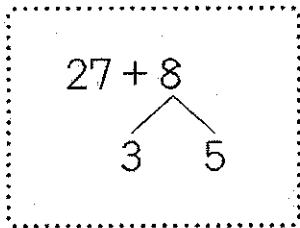
★ たしかめテスト

3 たし算と ひき算

くみ	名まえ	てんすう

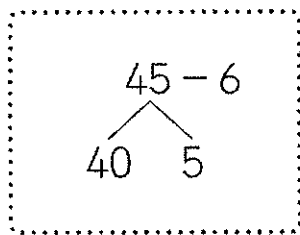
1 □にあてはまる数をかきましょう。

① $27 + 8$



27に □ を たして 30
30と □ で □

② $45 - 6$



40から □ を ひいて 34
34と □ で □

2 つぎの計算をしましょう。

① $37 + 3 =$

② $15 + 6 =$

③ $29 + 7 =$

④ $83 + 9 =$

⑤ $52 + 20 =$

⑥ $20 - 2 =$

⑦ $43 - 7 =$

⑧ $55 - 6 =$

⑨ $34 - 9 =$

⑩ $93 - 30 =$

- 3 えんぴつを 24本 もって いました。きょう 9本 もらいました。
えんぴつは 何本に なりましたか。

(しき)

答え 本

- 4 つばさんは 色紙を 8まい もって います。
みらいさんは 色紙を 22まい もっています。
ちがいは 何まい ですか。

(しき)

答え まい

- 5 □には 3つとも おなじ 数字が はいります。
あてはまる 数字を かきましょう。

$$72 - \square = \square \square$$

- 6 しきが $15+7$ に なる もんだいを つくりましょう。

.....

.....

.....

.....

.....

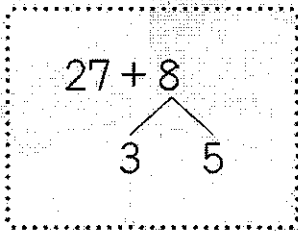
★ たしかめテスト

3 たし算と ひき算

くみ	名まえ	てんすう

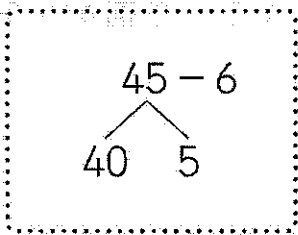
1 □にあてはまる数をかきましょう。

① $27 + 8$



27に を たして 30
 30と で

② $45 - 6$



40から を ひいて 34
 34と で

2 つぎの計算をしましょう。

① $37 + 3 =$

② $15 + 6 =$

③ $29 + 7 =$

④ $83 + 9 =$

⑤ $52 + 20 =$

⑥ $20 - 2 =$

⑦ $43 - 7 =$

⑧ $55 - 6 =$

⑨ $34 - 9 =$

⑩ $93 - 30 =$

- 3 えんぴつを 24本 もって いました。きょう 9本 もらいました。
えんぴつは 何本に なりましたか。

(しき)

$$24 + 9 = 33$$

答え 33 本

- 4 つばさんは 色紙を 8まい もって います。
みらいさんは 色紙を 22まい もっています。
ちがいは 何まい ですか。

(しき)

$$22 - 8 = 14$$

答え 14 まい

- 5 □には 3つとも おなじ 数字が はいります。
あてはまる 数字を かきましょう。

$$72 - \boxed{6} = \boxed{6} \boxed{6}$$

- 6 しきが 15+7 になる もんだいを つくりましょう。

まぼんのドリル

1 一年生の
おうちドリル (1)



名前

月 日

せうじょうのひょう 15分

合計80点

/100点

1 — の かん字の 読みが

なを 書きましよう。

40点(1つ5)

① 花が さく。

② 草が 生える。

③ 雨が ふる。



④ 音が きこえる。

⑤ ふろに 入る。

⑥ そとに 出る。

⑦ 八月は あつい。

⑧ 百円を はらう。

2 □にあてはまる かん字

を 書きましよう。

60点(1つ10)

① かに のぼる。

② かわが ながれる。

③ みを のむ。

④ いぬが ほえる。

⑤ おおきい ひと。

⑥ あおいうみ。

まぼんのまぼん

2

一年生の おぼろい (2)



月 日

まぼんのまぼん 15分

名前

点が<80点

/100点

① — の かん字の 読みが
なを 書きましよう。

40点(100%)



- ① 車にのる。
- ② 火をけす。
- ③ 耳をすます。
- ④ 足がはやい。
- ⑤ 右手を上げる。
- ⑥ 左にまがる。
- ⑦ あたまを下げる。
- ⑧ うみを見る。

② □にあてはまる かん字
を 書きましよう。

60点(100%)

- ① くち を ひらく。
- ② め を さます。
- ③ き に のぼる。
- ④ ほん を よむ。
- ⑤ 赤ちゃんが た っ。
- ⑥ 学校を やす む。