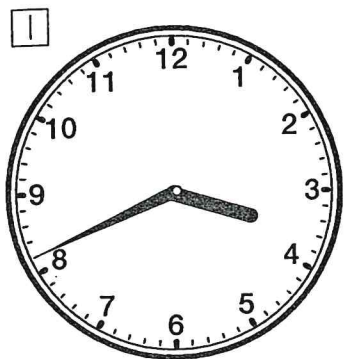


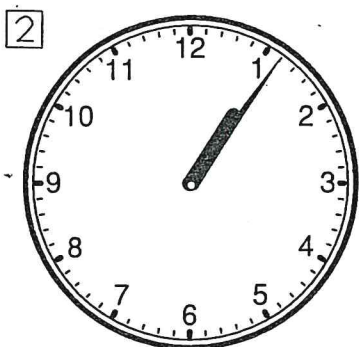
# 時と時間

来週から時と時間の学習に入ります。  
 とけいをしっかりとめようにならなう。


とけいの はりを よみましょう。



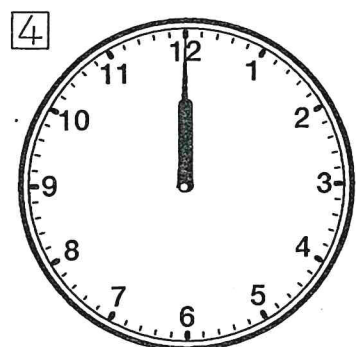
( 3時41分 )




( 1時6分 )




( 5時8分 )



( 12時 )



( 2時9分 )




( 5時55分 )



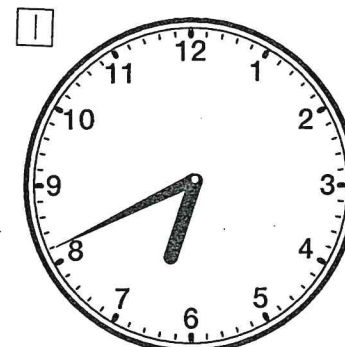
( 4時30分 )



( 7時38分 )




( 8時49分 )



( 6時41分 )



( 2時45分 )



( 8時26分 )



( 4時23分 )



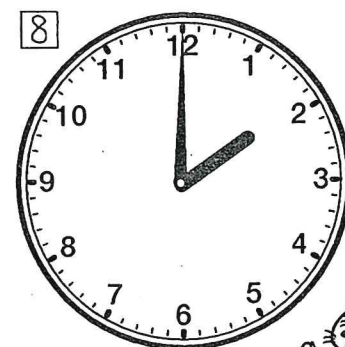
( 9時45分 )




( 7時8分 )



( 12時47分 )



( 2時 )



( 12時59分 )

①計算ドリル 2 と 3 をしましょう。