

平成20年度 京都府公立高等学校入学者選抜学力検査

検査2 社会

解答上の注意

- 1 「始め」の指示があるまで、問題を見てはいけません。
- 2 問題は、この冊子の中の1～4ページにあります。
- 3 答案用紙には、受付番号を書きなさい。氏名を書いてはいけません。
- 4 解答は、それぞれの問題に示してある【答の番号】と、答案用紙の【答の番号】とが一致するように注意して、答案用紙に答えを記入しなさい。
- 5 答えとして記号を選ぶものは、答案用紙の答の欄の当てはまる記号を○で囲みなさい。答えを訂正するときは、もとの○をきれいに消すか、それに×をつけなさい。
- 6 答えとして記述するときは、丁寧に書きなさい。
- 7 答案用紙の採点欄には記入してはいけません。
- 8 答えの書き方について、下の例を見て間違いのないようにしなさい。

解答例

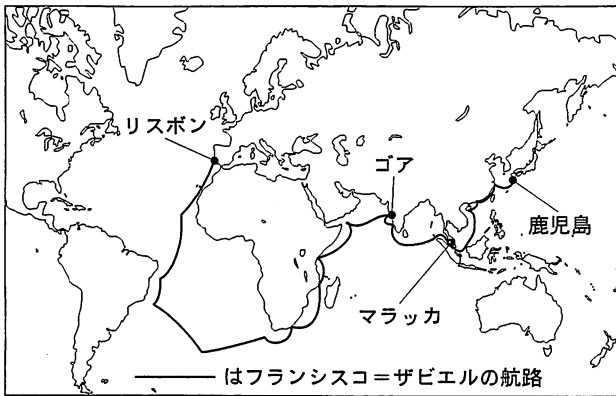
- 1 火曜日の翌日は何曜日か、漢字1字で書け。
.....答の番号【1】
- 2 次の問い(1)・(2)に答えよ。
(1) 次の説明のうち、正しいものはどれか、(ア)～(エ)から1つ選べ。.....答の番号【2】
(ア) 北と反対の方角は西である。
(イ) 南と反対の方角は東である。
(ウ) 東と反対の方角は西である。
(エ) 西と反対の方角は南である。
(2) 次の数のうち、奇数はどれか、(ア)～(オ)から3つ選べ。.....答の番号【3】
(ア) 1 (イ) 2 (ウ) 3
(エ) 4 (オ) 5

問題番号	答の番号	答の欄	採点欄
1	【1】	水 曜日	【1】
2	(1) 【2】	ア イ <input checked="" type="radio"/> ウ エ	【2】
	(2) 【3】	<input checked="" type="radio"/> ア <input checked="" type="radio"/> イ <input checked="" type="radio"/> ウ <input checked="" type="radio"/> エ <input checked="" type="radio"/> オ	【3】

検査	受付番号	得点
2	123456	

1 イエズ会宣教師フランシスコ＝ザビエルの日本への来航に関する資料Ⅰ・Ⅱを見て、下の問い(1)～(6)に答えよ。(12点)

資料Ⅰ



資料Ⅱ (平成15年国土地理院発行50万分の1地方図「九州」より作成)

(1) 資料Ⅰ中のリスボンを出発してから鹿児島に到着するまでに、フランシスコ＝ザビエルは三大洋(海洋)のすべてを通った。フランシスコ＝ザビエルは、三大洋を何洋→何洋→何洋の順に通ったか、それぞれ漢字2字またはカタカナ3字で書け。

……………答の番号【1】

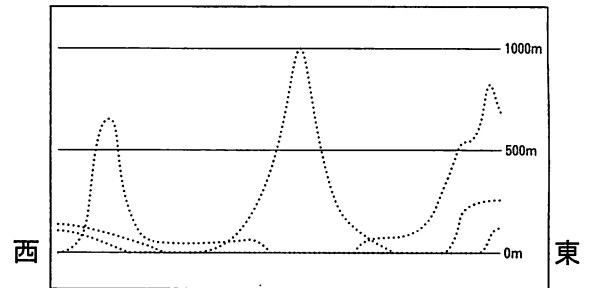
(2) 資料Ⅰ中のリスボンと鹿児島は同じ気候帯に、また、ゴアとマラッカは同じ気候帯に属している。リスボンと鹿児島、ゴアとマラッカがそれぞれ属している気候帯として最も適当なものはどれか、(ア)～(エ)からそれぞれ1つずつ選べ。

……………答の番号【2】

- (ア) 熱帯 (イ) 温帯
- (ウ) 冷帯(亜寒帯) (エ) 寒帯

(3) 右の資料Ⅲは、資料Ⅱ中の同じ経度間を結んだA-B・C-D・E-Fのそれぞれの断面を点線で模式的に表して、重ねて1つの図にしたものである。E-Fの断面を、答案用紙中の点線をなぞって実線(—)で示せ。ただし、海面は0mとしてなぞること。……………答の番号【3】

資料Ⅲ



(4) フランシスコ＝ザビエルがキリスト教を日本に伝えた後、江戸幕府はキリスト教を禁止した。キリスト教に対するきびしい取りしまりなどに反対しておこされたできごととはどれか、次の(ア)～(エ)から1つ選べ。また、現代の日本では日本国憲法第20条によって信教の自由が保障されている。信教の自由は、日本国憲法が保障している身体の自由(生命・身体の自由)、精神の自由、経済活動の自由のうちのどれに含まれるか、下の(カ)～(ク)から1つ選べ。……………答の番号【4】

- (ア) 一向一揆 (イ) 島原・天草一揆 (ウ) 西南戦争 (エ) 尊王攘夷運動
- (カ) 身体の自由(生命・身体の自由) (キ) 精神の自由 (ク) 経済活動の自由

(5) フランシスコ＝ザビエルが日本に来た後にさかんになった、当時のポルトガルやスペインと行われていた貿易を何貿易というか、ひらがな4字で書け。また、この貿易で日本から輸出されたおもなものとして最も適当なものはどれか、(ア)～(エ)から1つ選べ。

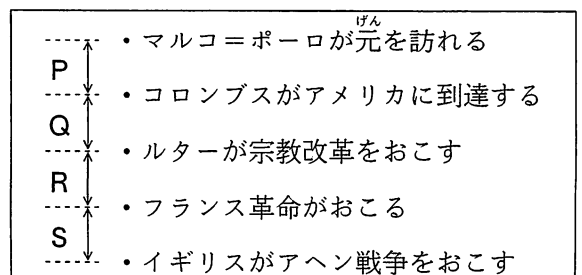
……………答の番号【5】

- (ア) 鉄砲 (イ) 火薬
- (ウ) 時計 (エ) 銀

(6) 右の資料Ⅳは、世界のできごとを年代順に並べたものである。フランシスコ＝ザビエルが日本に来たのはどの時期か、資料Ⅳ中のP～Sから1つ選べ。

……………答の番号【6】

資料Ⅳ



【裏へつづく】

2 京都に住む京子さんは、祖父母が住む三重県志摩市に旅行をして、さまざまなことを調べた。下の問い(1)~(9)に答えよ。(18点)

資料 I (平成13年国土地理院発行5万分の1地形図「波切」を80%に縮小し作成)

(1) 資料 I 中の●にある展望台から、南の方角に向かって写したものと考えられる写真はどちらか、右の(ア)・(イ)から選べ。また、資料 I から読み取ることができることとして正しいものはどれか、次の(カ)~(ケ)から1つ選べ。

(ア)



(イ)



.....答の番号【7】

(カ) 地図中の北西部には大きな平野が広がっている。

(キ) 「熊野灘」の沿岸部には大きな工場がたくさんならんでいる。

(ク) 海岸線が複雑に入り組んだ「英虞湾」内では真珠の養殖が行われている。

(ケ) 「近鉄志摩線」にある4つの駅周辺のうち、最も市街地が広がっているのは「かしこじま」駅周辺である。

(2) 資料 I 中の★は、国際通信をささえる海底ケーブルが海外との間に引かれている場所であることがわかった。現代の世界の交通・通信について述べた文として誤っているものはどれか、(ア)~(エ)から1つ選べ。

.....答の番号【8】

(ア) 人々の国際間の移動や交流の範囲は広がっている。

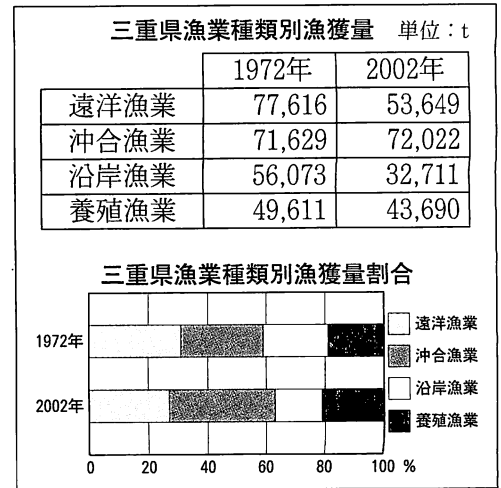
(イ) 航空交通網は地域的な差がなく均等に発達している。

(ウ) 海上交通は貨物輸送量の上で重要な役割を果たしている。

(エ) インターネットの普及など、通信の国際化が進んでいる。

(3) 右の資料Ⅱは、1972年と2002年の三重県漁業種類別漁獲量をくらべて、その割合のグラフを作成したものである。資料Ⅱから読み取ることができることとして誤っているものはどれか、A群(ア)～(エ)から1つ選べ。また、日本や世界の漁業について述べた文として誤っているものはどれか、B群(カ)～(ク)から1つ選べ。……………答の番号【9】

資料Ⅱ



三重県農政事務所統計部資料より作成

- A群 (ア) 遠洋漁業は漁獲量、漁獲量割合とも減少している。
 (イ) 沖合漁業は漁獲量、漁獲量割合とも増加している。
 (ウ) 沿岸漁業は漁獲量、漁獲量割合とも減少している。
 (エ) 養殖漁業は漁獲量、漁獲量割合とも減少している。
- B群 (カ) 日本の周辺には、暖流と寒流がぶつかる好漁場がある。
 (キ) 日本の漁獲量は、第二次世界大戦後、現在まで毎年増え続けている。
 (ク) 現在、世界の多くの国は、自国の沿岸200海里以内を経済水域(排他的経済水域)としている。

(4) 次の資料Ⅲは、三重県伊勢志摩地域の人口の推移を調べてまとめたものの一部である。資料Ⅲの文章中の□に入る最も適切な語句をひらがな8字で書け。……………答の番号【10】

資料Ⅲ

	1975年	1985年	1995年	2005年
総人口	272,180	274,863	270,308	256,897
15歳未満	65,222	56,028	43,513	34,788
15～64歳	178,613	183,315	177,730	157,017
65歳以上	28,336	35,520	49,063	65,070

三重県ホームページより作成

社会科の授業で、日本では総人口に占める15歳未満人口の割合や65歳以上人口の割合が急激に変化して□社会に突入していることを学習しました。伊勢志摩地域でも同じ変化がおきていることが確認できました。

(5) 資料Ⅰ中の北東部に見える「国府」あたりは、古代に法律に基づいて志摩国の役所がおかれていた地域であると考えられていることがわかった。古代に都から地方の国々へ派遣された役人を何というか、(ア)～(エ)から1つ選べ。また、中国の唐にならって定められた法律に基づいて政治を行う、古代の国家を何国家というか、ひらがな5字で書け。……………答の番号【11】

- (ア) 国司 (イ) 郡司 (ウ) 大名 (エ) 守護

(6) 資料Ⅰの沿岸を、江戸時代には大阪と江戸の間を結ぶ菱垣廻船や樽廻船などの定期船が航行していたことがわかった。江戸時代の大阪や江戸について述べた文として誤っているものはどれか、(ア)～(エ)から1つ選べ。……………答の番号【12】


- (ア) 江戸は将軍の城下町で、政治の中心地として栄えた。
 (イ) 大阪は全国の商業の中心地として栄え、「天下の台所」とよばれた。
 (ウ) 江戸から大阪へは、おもに木綿・酒・しょう油・菜種油などが送られた。
 (エ) 諸藩は大阪に蔵屋敷をおいて、藩から米や特産物を運んだ。

(7) 資料Ⅰ中の海岸では、第二次世界大戦末期に対戦国からの攻撃に備えるための基地として洞窟が掘られたという話を祖父母から聞いた。第二次世界大戦中に日本が対戦した国として誤っているものはどれか、(ア)～(エ)から1つ選べ。……………答の番号【13】

- (ア) アメリカ (イ) イギリス (ウ) 中国 (エ) ドイツ

(8) 資料Ⅰ中の阿児町・大王町・志摩町は、近隣の磯部町・浜島町とともに2004年に合併して志摩市となったことがわかった。市町村合併が活発に行われている理由のひとつは、地域の問題に国があまり関与しないので、できるだけ地域住民の判断にゆだねるしくみを実現するためである。このようなしくみを何分権というか、漢字2字で書け。また、「三重県」は1871年に政府が実施した政策に基づいて1876年に成立した。1871年に政府が実施したこの政策を何というか、ひらがな7字で書け。……………答の番号【14】 写真

(9) 右の写真は、志摩市に向かう途中で見学した風車である。これらの風車はおもに季節風を利用して発電しているが、冬の季節風はおもにどの方位からふいてくるか、漢字2字で書け。また、このような風車を用いて行う発電について述べた文として最も適当なものはどれか、(ア)～(エ)から1つ選べ。……………答の番号【15】

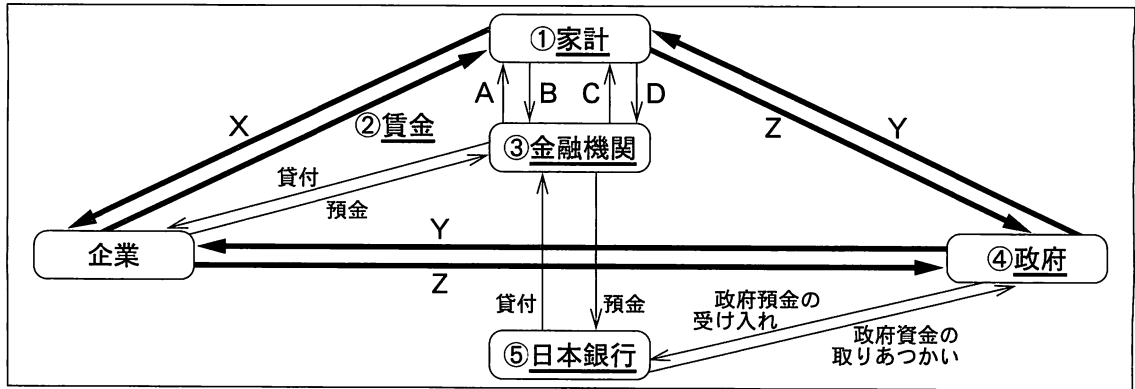


- (ア) 化石燃料を大量に使用する。
 (イ) 放射性廃棄物の処理の問題がある。
 (ウ) 現状では開発や実用化に費用がかかる。
 (エ) 地球温暖化の原因となる二酸化炭素などの排出量が多い。

【裏へつづく】

3 「お金」や「もの」の動きについてまとめた資料Ⅰを見て、下の問い(1)～(5)に答えよ。(10点)

資料Ⅰ



- (1) 資料Ⅰ中のX～Zの矢印(→)が、それぞれあらわすものの正しい組み合わせはどれか、(ア)～(エ)から1つ選べ。……………答の番号【16】
- (ア) X労働力 Y公共サービス Z税金
 (イ) X労働力 Y税金 Z公共サービス
 (ウ) X税金 Y公共サービス Z労働力
 (エ) X税金 Y労働力 Z公共サービス
- (2) 資料Ⅰ中の下線部①家計における、食料・娯楽・教育・医療などの支出を何支出というか、ひらがな4字で書け。また、資料Ⅰ中のAは貸付で、Dは預金である。AとDを同じ金額として、ある同じ時期・期間において、Aに対して支払われる利子(利息)Bと、Dに対して支払われる利子Cとをくらべるとどのような関係になるか、(ア)～(ウ)から1つ選べ。……………答の番号【17】
- (ア) B < C (イ) B = C (ウ) B > C
- (3) 次の資料Ⅱは、資料Ⅰ中の下線部②賃金の給与明細表の例である。資料Ⅱ中の所得税は所得が多い人ほど税率が高くなる。このような課税を何課税というか、ひらがな4字で書け。また、資料Ⅱ中の健康保険料・厚生年金・雇用保険は、社会保険のための保険料である。日本国憲法第25条の規定にもとづいて整備された、社会保険などを柱とする制度を何制度というか、漢字4字で書け。……………答の番号【18】

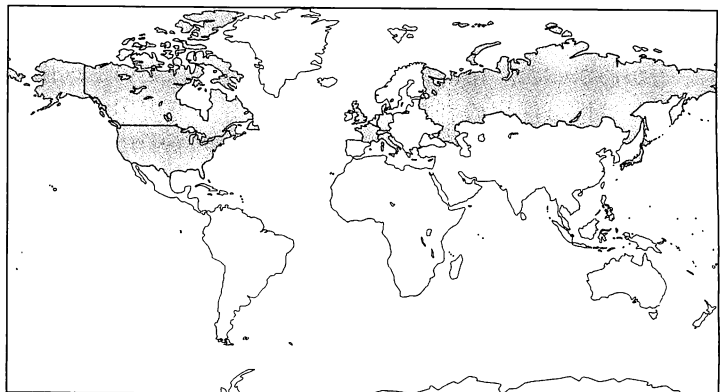
資料Ⅱ

氏名 ○○ ○○ 殿								
基本給	時間外手当	調整手当	皆勤手当	通勤手当			支給額合計	
180,400	7,350	9,020	10,000	9,000			215,770	
健康保険料	厚生年金	雇用保険	所得税	住民税	共済会費		控除計	差引支給額
9,020	16,106	1,294	3,970	6,900	1,804		39,094	176,676

金融庁ホームページより作成

- (4) 資料Ⅰ中の下線部③金融機関とはお金のなかだちをする機関である。日本の中世の金融業者として最も適当なものはどれか、(ア)～(エ)から1つ選べ。……………答の番号【19】
- (ア) 土倉 (イ) 馬借 (ウ) 株仲間 (エ) 惣
- (5) 資料Ⅰ中の下線部④政府の行政機関の一つである財務省の大臣や、資料Ⅰ中の下線部⑤日本銀行の総裁は、毎年実施される主要国の財務大臣や中央銀行総裁の会議に出席している。その主要国とは右の資料Ⅲ中に○で示した日本・アメリカ・イギリス・イタリア・カナダ・ドイツ・フランス・ロシアの8か国である。この8か国について述べた文として正しいものはどれか、(ア)～(エ)から1つ選べ。……………答の番号【20】
- (ア) この8か国のすべては、アジア太平洋経済協力会議(APEC)加盟国である。
 (イ) この8か国のなかには、冷たい戦争(冷戦)の時代に分断されていた国はない。
 (ウ) この8か国のうちのいずれの国も存在しない大陸が、六大陸のうちに4つある。
 (エ) この8か国のすべては、石油の埋蔵地が集中した地域国である。

資料Ⅲ



【社会おわり】

